

### 高一地理试卷

考试时间：60 分钟 试题满分：100 分

#### 第 I 卷（选择题 共 70 分）

本卷共 35 小题，每小题 2 分，共 70 分。在每小题给出的四个选项中，只有一项是符合题目要求的。


右图为某山地部分垂直自然带与水平自然带对应关系示意图，读图回答 1、2 题。

1. 据图推测，该山地山麓处的地带性植被最可能是

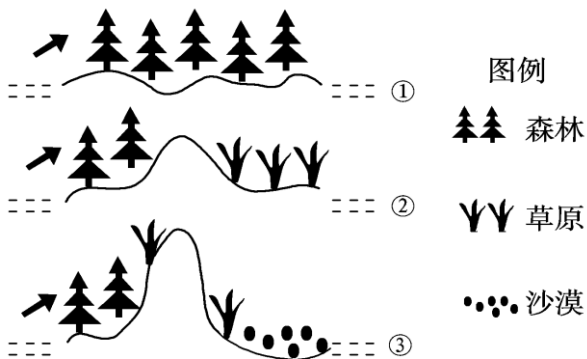
- A. 温带落叶阔叶林
- B. 亚热带常绿硬叶林
- C. 亚寒带针叶林
- D. 热带草原

2. 从赤道向较高纬度地区，针叶林带在山地分布的海拔高度

- A. 逐渐升高
- B. 保持不变
- C. 逐渐降低
- D. 变化无序



读下图，根据图中信息完成 3、4 题。



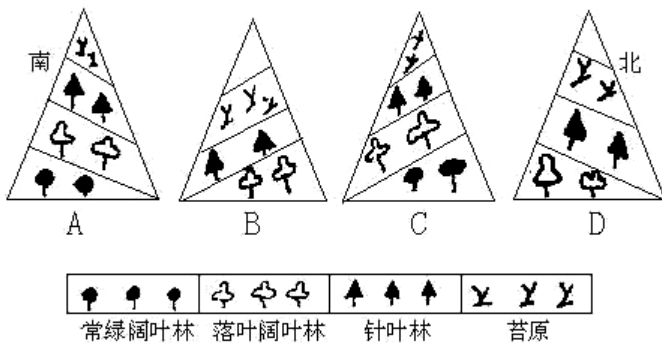
3. 引起图中地理环境变化的根本因素是

- A. 大气环流
- B. 地壳运动
- C. 海陆位置
- D. 人类活动

4. 图示地理环境的演化过程主要体现了地理环境的

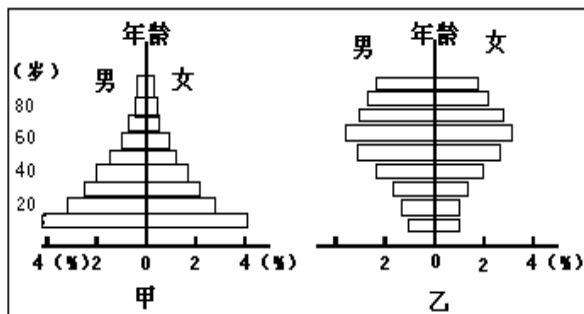
- A. 整体性
- B. 差异性
- C. 稳定性
- D. 复杂性

5. 在下面四幅山地垂直带谱图中，位于北半球暖温带山地的垂直带谱是

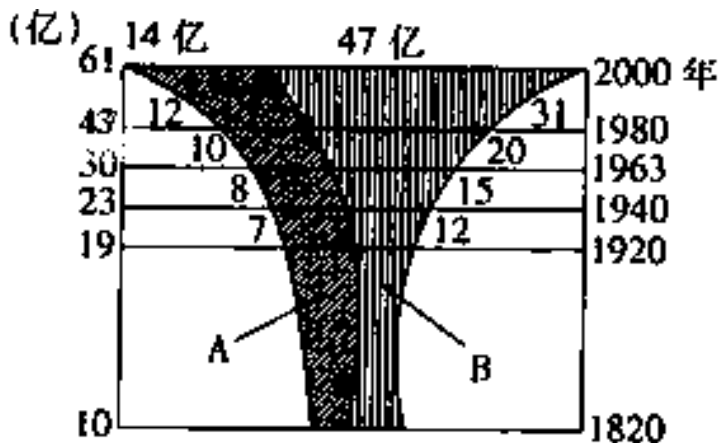


右图是甲、乙两国人口年龄结构示意图，据此完成6、7题。

6. 甲国人口增长模式属于
- A. 高出生率、高死亡率、高自然增长率  
 B. 高出生率、低死亡率、高自然增长率  
 C. 低出生率、高死亡率、低自然增长率  
 D. 低出生率、低死亡率、低自然增长率
7. 甲国或乙国目前的人口状况是
- A. 甲国人口增长缓慢  
 B. 乙国青壮年人口多，即将进入人口生育高峰期  
 C. 甲国青少年人口少，劳动力不足  
 D. 乙国已进入老龄化社会，社会负担加重

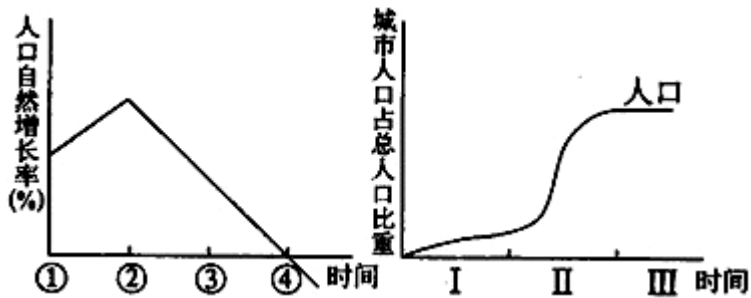


读“世界不同生产力水平国家人口增长图”，回答8、9题。

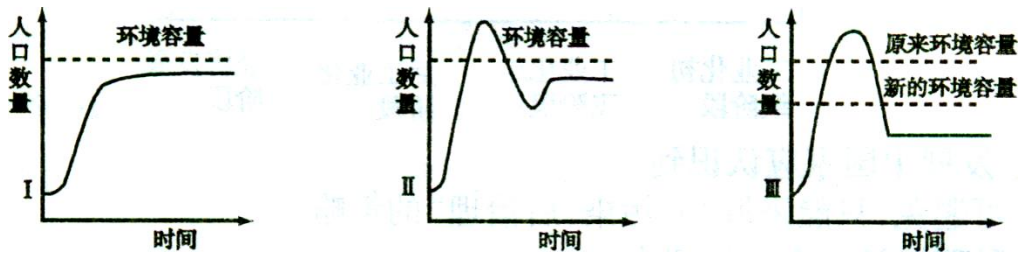


8. 图中A类国家目前人口再生产的特点是
- A. 低出生率、低死亡率、低自然增长率  
 B. 高出生率、高死亡率、低自然增长率  
 C. 高出生率、低死亡率、高自然增长率  
 D. 高出生率、低死亡率、低自然增长率
9. B类国家，人口再生产类型属于
- A. 原始型 B. 传统型 C. 过渡型 D. 现代型

读城市化进程和某国人口自然增长率变化曲线图。据此完成 10—12 题。

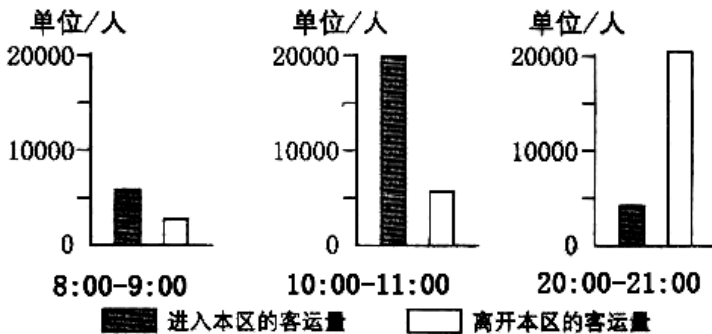


10. 该国人口出现负增长的时间为  
 A. ①                      B. ②                      C. ③                      D. ④
11. 下列各国中，人口发展情况与图示类型一致的是  
 A. 埃及                      B. 中国                      C. 德国                      D. 巴西
12. 当前，该国城市化进程所处的阶段是  
 A. I                      B. I 和 II                      C. II                      D. III
13. 下图反映人与环境关系的三种模式，按照人与环境关系的理想程度由好到差排列的顺序为



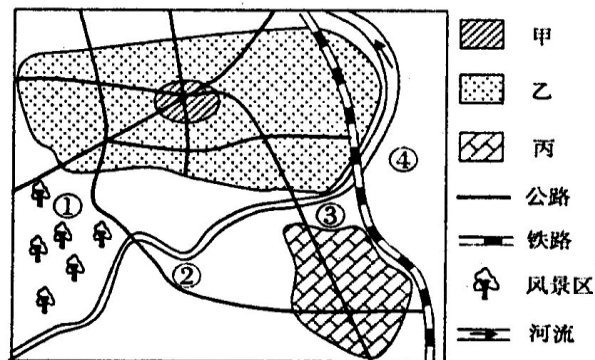
- A. I、II、III                      B. II、I、III                      C. III、II、I                      D. I、III、II

2010 年 3 月 5 日，温家宝总理在政府工作报告中指出要“推进户籍制度改革，放宽中小城市和小城镇落户条件，引导非农产业和农村人口有序向小城镇集聚”。下图为“某城市内一区域日均地铁分时段客运量统计图”。读图回答 14、15 题。



14. 该城市区域最可能属于  
 A. 中心商务区      B. 钢铁工业区      C. 居民住宅区      D. 公园游览区
15. 下列有关我国城市化的叙述，正确的是  
 A. 城市化进程目前处于后期成熟阶段  
 B. 我国东、西部城市化速度同步  
 C. 推进户籍制度改革会加快我国城市化的进程  
 D. 我国工业化起步晚，城市化水平低，未出现城市环境问题

下图为南亚某城市主要功能区分布示意图，读图回答 16、17 题。

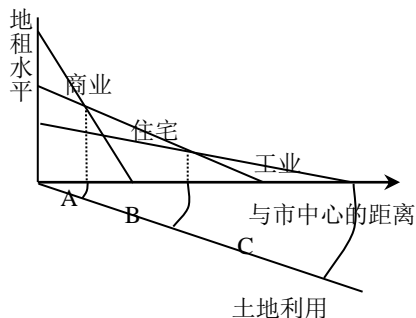


16. 图中甲、乙、丙对应的功能区正确的是  
 A. 甲-商业区    乙-工业区    丙-住宅区    B. 甲-住宅区    乙-工业区    丙-商业区  
 C. 甲-商业区    乙-住宅区    丙-工业区    D. 甲-工业区    乙-商业区    丙-住宅区
17. 关于该城市规划及原因的说法正确的是  
 A. ①处适宜规划建设高级住宅区——地价较低  
 B. ②处适宜规划建设化工厂——交通便利  
 C. ③处适宜规划建设绿化带——减少污染  
 D. ④处适宜规划建设食品加工厂——靠近水源

读“各类土地利用付租能力随距离递减示意图”，完成 18、19 题。

18. 在竞争环境下，城市的每一块土地用于哪种经济活动，取决于各种活动的：

- A. 规模的大小      B. 重要的程度  
 C. 付出租金的高低      D. 由政府决策
19. 土地租金高低取决于下列因素：①距离市中心的远近 ②土地利用方式 ③交通通达度 ④企业的支付能力，其中主要的是



- A. ①②      B. ①③      C. ②④      D. ③④

20. 下列说法正确的是

- A. 城市里快餐店越多越好，因为这样可以方便居民
- B. 城市里快餐店比大酒店多，这是因为快餐店服务范围大，赢利多
- C. 小城镇上有快餐店，但可能没有大酒店，因为大酒店比快餐店需要更大的服务范围
- D. 城市越大，提供的服务等级会越高，因而必须淘汰快餐店，多兴建大酒店

21. 下列各项活动，在现代农业生产中，不属于加大科技投入的是

- A. 培育良种
- B. 扩大耕地面积
- C. 改革耕作方式
- D. 改进灌溉技术

22. 下列农业地域类型属于密集农业但不属于商品农业的是

- A. 商品谷物农业
- B. 大牧场放牧业
- C. 热带作物种植园
- D. 亚洲的水稻种植业


南昌市郊区某村，利用塑料大棚生产蔬菜，并同时开办了养猪场，如图所示。据此完成以下 23、24 题。

23. 该村的农业地域类型是

- A. 种植业
- B. 畜牧业
- C. 混合农业
- D. 生态农业

24. 利用塑料大棚种植蔬菜可以改善

- A. 光照条件
- B. 热量条件
- C. 降水条件
- D. 土壤条件



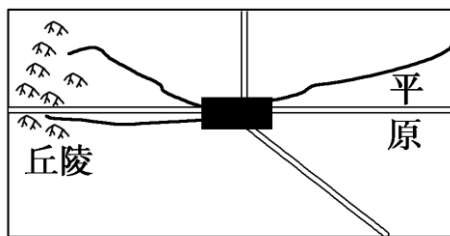
25. 商品谷物农业的基本特征是

- A. 生产规模大，机械化程度高
- B. 商品谷物农业分布在发展中国家
- C. 主要靠雇员经营
- D. 需要劳动力多

2010 年冬，受韩国“泡菜危机”等预期的影响，山东大白菜价格暴涨。然而，2011 年 9 月以来，山东大白菜价格持续回落，5 分钱一斤都没人要。从“菜贵伤民”到“菜贱伤农”，引起了社会的广泛关注。读“山东省某蔬菜种植地区略图”，完成 26、27 题。

26. 该地种植蔬菜的主要自然条件是

- A. 地势平坦，机械化水平高
- B. 接近城区，市场广阔
- C. 靠近河流，航运便利
- D. 水源充足，土壤肥沃



27. 导致该地 2011 年初大白菜种植面积较 2010 年大幅增加的因素是

- A. 政策
- B. 市场
- C. 技术
- D. 气候

根据“甲、乙两个地区农业生产基本特征表”，据此回答 28、29 题。

地区	种植业比重	畜牧业比重	商品率	劳动力投入
甲	83%	17%	22%	多
乙	45%	55%	90%	少

28. 甲地区最可能的农业地域类型是

- A. 高度发达的商品化混合农业
- B. 游牧畜牧业
- C. 热带种植园农业
- D. 水稻种植业

29. 与乙地区农业特征相似的地区是

- A. 洞庭湖平原
- B. 墨累—达令盆地
- C. 亚马孙平原
- D. 德干高原

阿根廷潘帕斯草原大牧场放牧业因其良好的经济效益成为世界大牧场经营的杰出代表。据此回答 30、31 题。

30. 下列属于阿根廷潘帕斯草原大牧场放牧业的区位优势是

- A. 距海港近
- B. 属于温带海洋性气候
- C. 人口稠密
- D. 种植饲料

31. 我国广大牧区可借鉴阿根廷大牧场放牧业的经验有

- A. 培育良种牛，并加强对牛群病害的研究
- B. 大力推行人工草场，靠天养畜
- C. 大力开垦草原，种植饲料作物
- D. 往牧区外迁移人口，使牧区更有利于大规模生产

32. 乳畜业是伴随着城市的发展而产生的，面向市场的农业地域类型。下列有关乳畜业的说法正确的是

- A. 影响乳畜业布局的区位因素只有市场
- B. 乳畜业的发展与一个国家的经济发展水平无关
- C. 我国北京、上海等大城市周围也发展了乳畜业
- D. 乳畜业比较发达的地区都是温带海洋性气候区

甲图中阴影表示水稻种植业的主要分布范围，乙图表示甲图中相应区域的农业生产状况，回答 33—35 题。

33. 关于水稻种植业的叙述，正确的是

- A. 主要分布在西亚和中亚
- B. 主要生产玉米、小麦等谷物
- C. 以家庭经营为主，单产低，商品率高
- D. 是精耕细作的密集农业，需投入大量劳动力

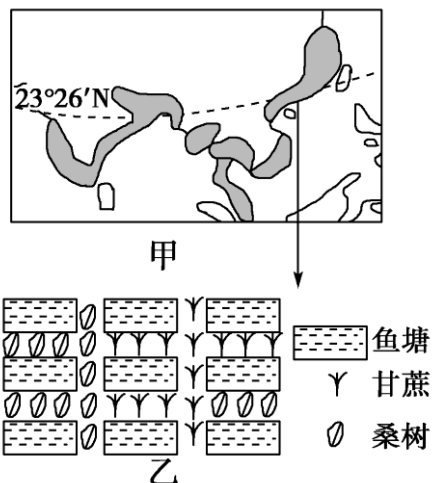
34. 乙图所表示的甲图中相应地区的农业地域类型是

- A. 商品谷物农业
- B. 乳畜业
- C. 混合农业
- D. 水稻种植业

35. 甲图所示农业地域类型发展的主要区位优势是

- ①雨热同期
- ②生产规模大
- ③机械化水平高
- ④人口稠密

- A. ①④
- B. ①③
- C. ③④
- D. ①②



第 II 卷（非选择题 共 30 分）

本卷共 2 小题 共 30 分。

36. (14 分)解放前，中国有著名的“三大荒”，如今已经变成了“三大仓”：“北大荒”变成粮仓，“西大荒”变成棉仓、粮仓，“南大荒”变成橡胶林和热带经济作物仓。读“我国‘三大荒地’分布示意图”，回答下列问题。

(1)简述“南大荒”发展橡胶生产，“西大荒”发展棉花生产的有利气候条件。


(2)从自然条件看，“北大荒”和“西大荒”农业发展的主要制约因素分别是什么？



(3)“北大荒”已成为我国著名的商品粮基地，与南方的商品粮基地比较，“北大荒”粮食生产的突出优势有哪些？

37. (16 分) 结合材料，完成下列问题。

不同时期户籍迁移记忆漫画。



(1) 材料反映出的影响人口迁移的因素有哪些？

(2) 当前我国人口迁移的主要方向是由 \_\_\_\_\_ 到 \_\_\_\_\_ ，这一过程叫做 \_\_\_\_\_ 过程。

(3) 目前我国的国内人口流动和迁移以务工和经商为主要形式，这对我国乡村有何影响？