

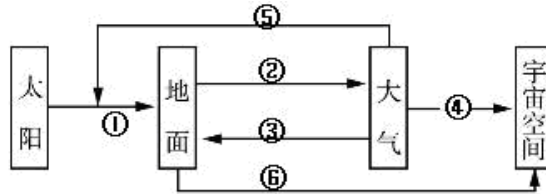
高一中美班 地理试卷

考试时间：60 分钟

试卷满分：100 分

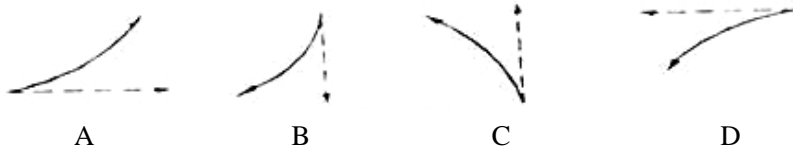
一、单项选择题（本大题共 40 小题，每小题 2 分，满分 80 分。在每小题列出的四个选项中，只有一项是符合题目要求的）

读“大气热力作用关联示意图”，完成 1~4 题：



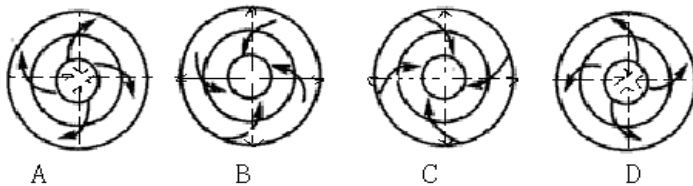
- 1、图中表示太阳辐射的箭头代码是：  
A、① B、② C、③ D、④
- 2、图中表示大气逆辐射的箭头代码是：  
A、① B、② C、③ D、④
- 3、图中表示近地面大气直接热源的箭头代码是：  
A、② B、③ C、④ D、⑤
- 4、反射、散射和吸收发生在图中哪个环节：  
A、① B、② C、③ D、④

下图为“做水平运动物体偏转方向图”（虚线表示物体初始运动方向），据此回答 5~7 题：



- 5、正确表示北半球水平运动物体偏转方向的是：  
A、A B、B C、C D、D
- 6、在悉尼奥运会上射击运动员面向东方，子弹的路径是图中：  
A、A B、B C、C D、D
- 7、在 20°W 沿路径 C 发射炮弹，炮弹最终会落到：  
A、东半球 B、南半球  
C、西半球 D、北半球

读“南北半球气旋与反气旋图”，回答 8~10 题：



8、图中能够表示台风示意图的是：

- A、A                  B、B  
C、C                  D、D


9、长江中下游 7~8 月的伏旱天气属于哪个天气系统：

- A、A                  B、B  
C、C                  D、D

10、图中表示南半球反气旋的示意图是：

- A、A                  B、B  
C、C                  D、D

读“天气系统示意图”，回答 11~13 题：



11、此图是哪类天气系统：

- A、气旋                          B、反气旋  
C、冷锋                          D、暖锋

12、该天气系统过境前的天气是：

- A、暖晴                          B、冷晴  
C、暖雨                          D、冷雨

13、该天气系统过境时的天气是：

- A、晴转多云  
B、雨后放晴  
C、狂风暴雨  
D、和风细雨

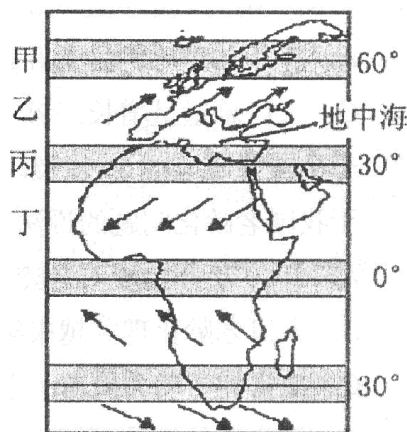
读“气压带风带示意图”，回答 14~18 题：

14、图中乙风带的名称是

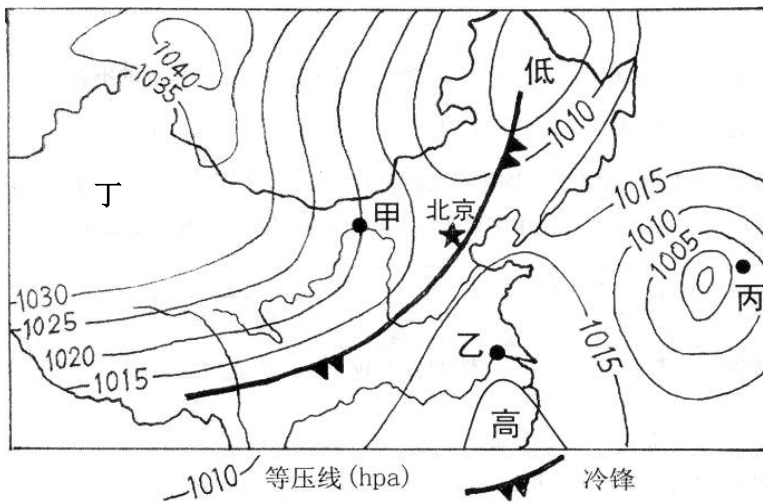
- A、极地东风带  
B、盛行西风带  
C、东北信风带  
D、东南信风带

15、地中海沿岸夏季炎热干燥，冬季温和多雨，是由于

- A、甲气压带与乙风带交替控制  
B、乙风带与丙气压带交替控制  
C、丙气压带与丁风带交替控制  
D、全年受乙风带影响



- 16、常年受风带乙控制而形成的气候类型是：  
 A、温带海洋气候  
 B、热带雨林气候  
 C、地中海气候  
 D、温带季风气候
- 17、全球气压带和风带在一年内有规律的南北移动，其原因是：  
 A、海陆热力性质差异  
 B、海陆分布的影响  
 C、太阳直射点的南北移动  
 D、各纬度间的冷热不均
- 18、撒哈拉沙漠全年炎热干燥是由于：  
 A、常年处在气压带甲的控制下  
 B、常年处在风带乙和气压带丙的控制下  
 C、常年处在气压带丙的控制下  
 D、常年处在气压带丙和风带丁的控制下
- 读“某区域近地面天气形式简图”，回答 19~22 题：

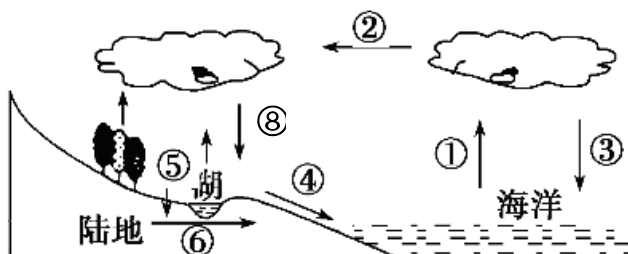


- 19、甲、乙、丙、丁四地中，气压最高的是：  
 A、甲  
 B、乙  
 C、丙  
 D、丁
- 20、甲、乙、丙、丁四地中，风力最大的是：  
 A、甲  
 B、乙  
 C、丙  
 D、丁
- 21、此时，甲地风向是：  
 A、东北风  
 B、西北风  
 C、东南风  
 D、西南风

22、锋面过境后，北京的天气状况可能是：

- A、气压降低
- B、气温升高
- C、天气转晴
- D、疾风骤雨

读“水循环示意图”，回答 23~25 题：



23、在水循环的环节中，目前受人类活动影响最大的是：

- A、①
- B、②
- C、③
- D、④

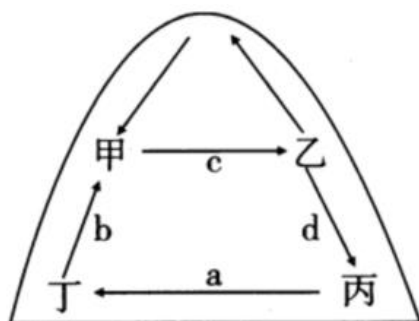
24、人工降水主要影响水循环的环节是：

- A、②
- B、③
- C、⑤
- D、⑧

25、对于水循环意义的叙述 正确的是

- A、在地表各圈层之间进行能量交换
- B、使全球各地的降水量保持不变
- C、使地表径流增多，海洋蒸发减少
- D、使水资源不断得到更新，但不能持续利用

读“北半球洋流模式示意图”，回答 26~28 题：



26、下列字母代表寒流的是

- A、a
- B、b
- C、c
- D、d

27、甲、乙、丙、丁四处能形成大型渔场的是

- A、甲
- B、乙
- C、丙
- D、丁

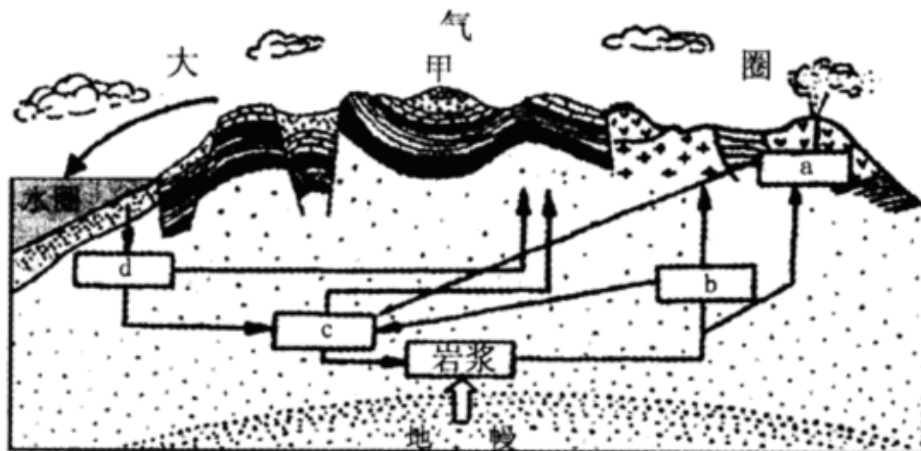
28、对西欧温带海洋性气候分布影响很大的洋流是：

- A、a            B、b            C、c            D、d

29、借助洋流航速加快的是：

- A、由乙到甲    B、由丙到乙    C、由丁到甲    D、由甲到丁

读“地壳物质循环简图”，回答 30~32 题：



30、图示 a、b、c、d 岩石中 属于沉积岩的是：

- A、a    B、b    C、c    D、d

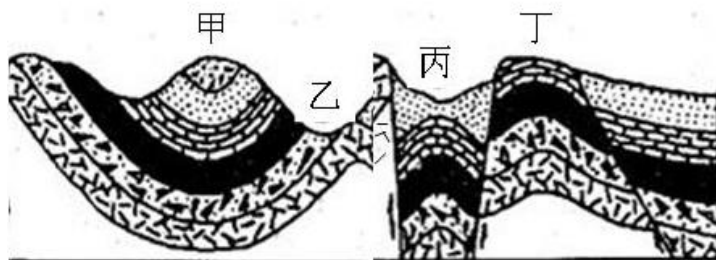
31、石灰岩属于哪类岩石：

- A、a    B、b    C、c    D、d

32、a 类岩石转化为 d 类岩石通过：

- A、冷却凝固  
B、重熔再生  
C、变质作用  
D、外力作用

读“地质作用示意图”，回答 33~35 题：



33、甲、乙、丙、丁四地中属于块状山地的是

- A、甲    B、乙    C、丙    D、丁


34、甲地地形为：

- A、背斜山                            B、向斜山  
C、背斜谷                            D、向斜谷

35、如果图中黑色岩层为煤层，则最易开采处在：

- A、甲
- B、乙
- C、丙
- D、丁

读“地理景观图”，回答 36~38 题：



36、由风力侵蚀作用形成的地貌是：

- A、A
- B、B
- C、C
- D、D

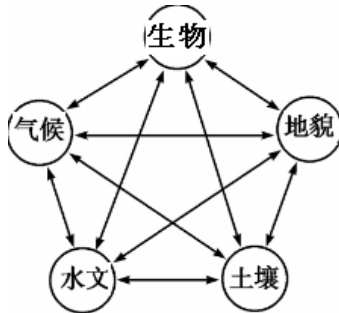
37、分布在河流入海口处的流水沉积地貌是：

- A、A
- B、B
- C、C
- D、D

38、挪威的峡湾风光（D 图）成因是：

- A、风力侵蚀
- B、海浪侵蚀
- C、冰川侵蚀
- D、流水侵蚀

读“自然地理环境各要素相互联系示意图”，回答 39~40 题：



39、该图反映了自然地理环境的：

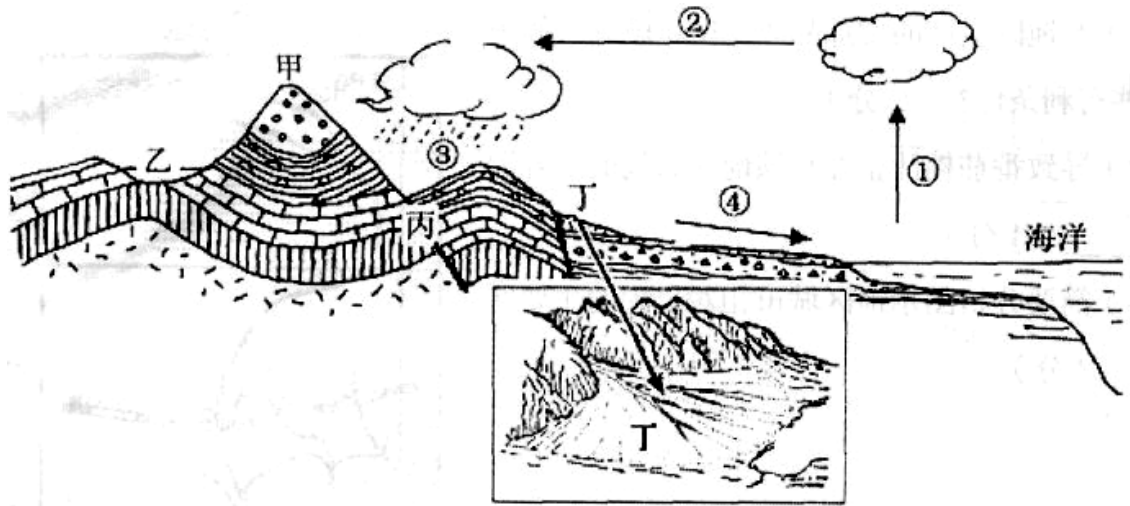
- A、差异性
- B、整体性
- C、单一性
- D、区域性

40、我国内蒙古高原的自然带，自东向西呈现草原→草原荒漠→荒漠的更替，这种自然带的分布规律是

- A、由赤道向两极的分异
- B、非地带性
- C、由沿海向内陆的分异
- D、垂直分异

二、综合题（满分 20 分）

41、读“我国某地地质剖面示意图”，回答下列问题。（10 分）



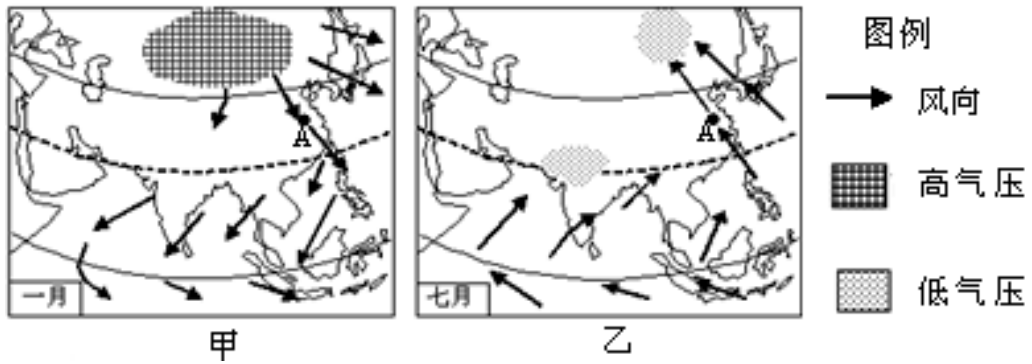
(1)甲地和丙地的地质构造分别是\_\_\_\_\_和\_\_\_\_\_。（2分）

(2)乙地地貌是\_\_\_\_\_，其形成原因是\_\_\_\_\_。  
\_\_\_\_\_。（3分）

(3)丁处地貌是\_\_\_\_\_，形成该地貌的外力作用是\_\_\_\_\_。（2分）

(4)图中①、②、③、④所构成的水循环称作\_\_\_\_\_循环。目前，人类主要通过改变\_\_\_\_\_（填数码代号）环节来影响水循环，其中主要通过\_\_\_\_\_等方式来改变地表水的时间分配状况。（3分）

42、下图为“亚洲冬、夏季风示意图”，读图完成下列各题。（10分）



(1) 表示亚洲夏季的是\_\_\_\_\_（甲、乙）图。（2分）

(2) 读图完成下表。（4分）

图名	甲	乙
比较项目		
气压	亚欧大陆是____压	太平洋是高压
A地风向	西北风	_____风

(3) 分析东亚季风环流形成的主要原因。（2分）

(4) 图甲所示季节，有关湖南省地理现象的叙述，正确的是\_\_。（单项选择）（2分）

- A、正午太阳高度角达一年中最大值
- B、昼长夜短
- C、湘江正值枯水期
- D、水稻正值收割时期