

高一理科文综合试卷

考试时间：90 分钟

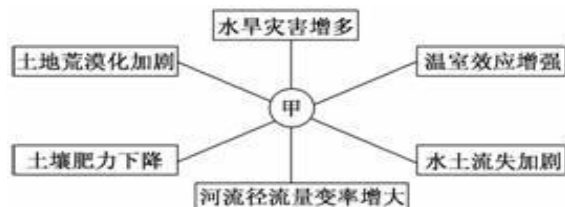
试卷满分：150 分

地理部分 选择题（每题只有一个正确答案，共 25 题，每题 2 分，满分 50 分。）

1944 年，美国科学家在绿草遍地、无人居住的圣马太岛放养了 29 只驯鹿，因无天敌，环境又好，10 年后繁衍到 1000 只，20 年后到了 6000 只，然后又过了 3 年调查时发现只剩下 42 只。据此完成 1~2 题。

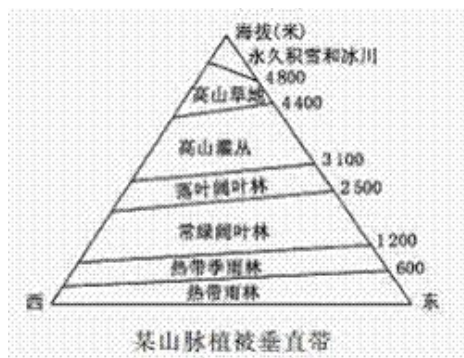
- 造成这种现象的原因是
 - 气候恶劣，大批驯鹿冻死
 - 大量捕杀，人为原因造成
 - 过度繁殖，饥饿而死
 - 漂洋过海，迁移到其他地方
- 正常情况下，该地区的驯鹿数量虽有波动但会基本稳定。这体现了自然地理环境
 - 具有生产功能
 - 具有平衡功能
 - 具有统一的演化进程
 - “牵一发而动全身”

地理环境中各事象之间是相互联系的，若某事象发生变化就会给其他事象带来影响，甚至发生一系列的变化。读图回答 3~4 题。



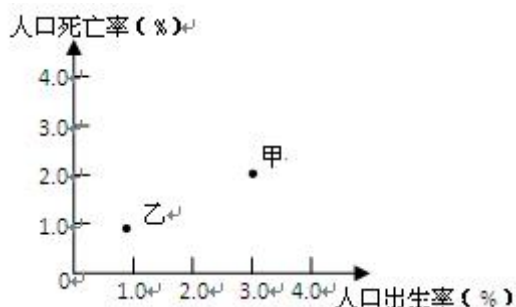
- 图中所示的中心事象“甲”最有可能是
 - 人口数量增多
 - 气候变化
 - 森林破坏
 - 围湖造田
- 上图反映了自然地理环境的
 - 综合性特征
 - 区域性特征
 - 整体性特征
 - 差异性特征

下图为某山脉某段的植被带垂直分布横剖面示意图。读图回答 5~6 题。



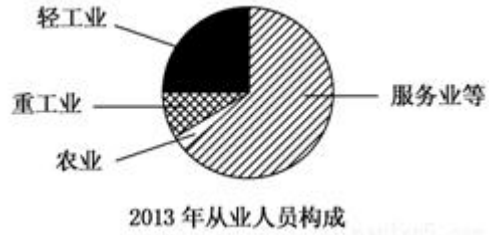
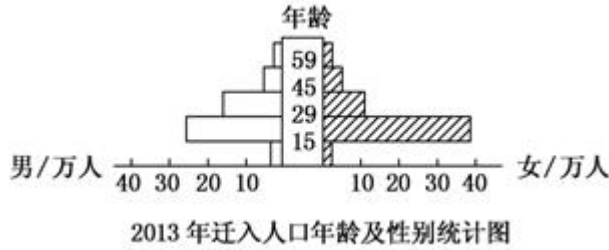
- 与图示植被带垂直分布相符的山脉可能是
 - 喜马拉雅山
 - 天山
 - 阿尔卑斯山
 - 安第斯山
- 该山脉雪线东坡低，西坡高的原因是
 - 东坡气温比西坡低
 - 东坡降水比西坡多
 - 东坡降水比西坡少
 - 东坡地势比西坡陡峻

如图为甲、乙两个国家人口出生率和死亡率统计图，读图回答 7~8 题。



- 甲国的人口自然增长率大约为
 - 1%
 - 2%
 - 3%
 - 4%
- 乙国的人口增长模式为
 - 原始人口增长模式
 - “高一低一高”模式
 - 传统人口增长模式
 - “低一低一低”模式

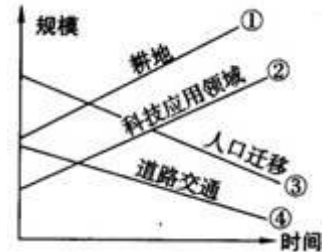
读下面两图，回答下列9~10题。



9. 下列关于该城市迁入人口的正确叙述是
- A. 迁入人口中女性数量多于男性可能会产生婚育方面的社会问题
 - B. 人口迁移主要受自然因素的影响
 - C. 该市因人口迁入而改变了就业结构
 - D. 迁入人口中男性数量多于女性，这与该市产业结构有关
10. 人口迁入对该市的负面影响可能有
- ①减轻了该市的就业压力 ②制约了该市的经济发展
 - ③加强了该市的环境问题 ④加大了该市基础设施的压力
- A. ①② B. ①③ C. ①④ D. ③④

人类与环境相互影响、相互制约，人类的发展要受到环境承载力和合理人口容量的影响，读图完成11~12题。

11. 我国北方地区比西北地区承载着更多的人口，这说明北方地区比西北地区
- A. 空间条件优越 B. 矿产资源丰富
 - C. 资源利用条件优越 D. 草场资源丰富
12. 该图中显示能提高青藏地区合理人口容量的有效途径是
- A. ① B. ②
 - C. ③ D. ④



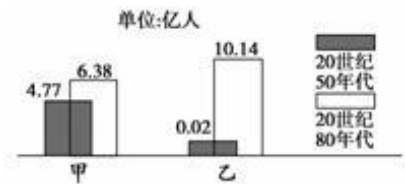
13. 如右图所示，由海南背心—广西、湖南短袖—湖北衬衣—河南西服—河北、辽宁大衣—吉林、黑龙江厚羽绒服的衣着变化体现了



- A. 从沿海向内陆的地域分异规律
 - B. 山地的垂直地域分异规律
 - C. 由赤道到两极的地域分异规律
 - D. 非地带性现象
14. 新疆和海南的穿衣指数不同，反映了区域环境的
- A. 整体性 B. 联系性
 - C. 开放性 D. 差异性

右图表示甲、乙两类国家的城市人口增长图。据此完成15~16题。


15. 下列关于两类国家的叙述正确的是
- A. 甲图表示发展中国家
 - B. 乙图表示发达国家
 - C. 目前，甲类国家城市化速度快于乙类国家
 - D. 目前，甲类国家城市化水平高于乙类国家



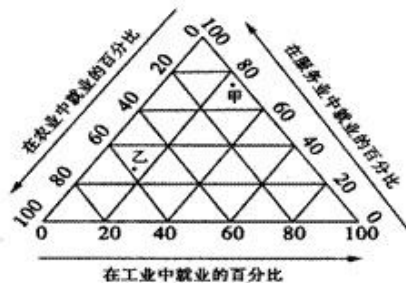
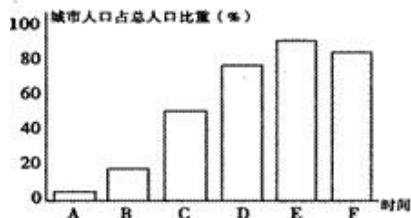
16. 近年来，发达国家出现逆城市化现象，城市人口向郊区、乡村居民点和小城镇流动，其原因不是
- A. 人们对环境质量要求提高
 - B. 乡村及小城镇基础设施逐步完善
 - C. 城市经济发展缓慢
 - D. 地铁、高速公路等交通事业的发展

17. 读“某城市地租水平与距市中心距离关系示意图”，图中甲、乙、丙、丁四地最有可能代表中心商务区的是

- A. 甲 B. 乙
C. 丙 D. 丁



读左下图“某城市人口占总人口比重变化图”和右下图“劳动力在各行业中的百分比图”，回答 18~19 题。



18. 在左图中，字母 A—E 反映的现象是

- A. 城乡差别拉大 B. 郊区城市化 C. 逆城市化 D. 城市化过程

19. 在右图中，甲、乙表示不同城市化阶段的就业比重状况，其中与乙相符的是

- A. D 时段 B. C 时段 C. E 时段 D. F 时段

读下面地理漫画图，回答 20~21 题。

20. 漫画反映的城市问题是

- A. 建筑物密集，绿地面积小
B. 热岛效应显著，城区温度较高
C. 污染严重，环境质量下降
D. 土地面积小，用地紧张



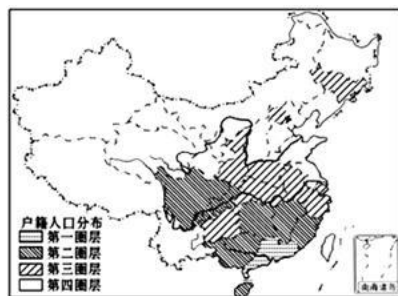
21. 解决漫画所示城市问题的合理措施有

- A. 建设新城，扩大城市规模
B. 建设卫星城，分散城区的人口和工业
C. 研制新型制冷设备，减少氟氯烃化合物排放
D. 减少二氧化碳排放，削弱城市热岛效应

右图为深圳户籍人口来源地分布图，读图完成 22~23 题。

22. 深圳户籍人口来源地中，第二圈层的省级行政区，除重庆、四川、海南外还有

- A. 吉林、安徽、湖北、贵州 B. 云南、贵州、湖南、江西
C. 福建、江西、湖南、贵州 D. 广西、湖南、江西、福建



23. 深圳户籍人口来源地中四川人较多，主要原因是由于四川

- A. 农村剩余劳动力多 B. 自然资源短缺 C. 政府安排外迁人口多 D. 生态移民较多

下图为人口迁移示意图。据此回答 24~25 题。



24. 若此图表示近现代世界人口迁移的主要方向，则该图可能表示

- A. 从北美迁往拉美 B. 从亚洲迁往拉美 C. 从非洲迁往西亚 D. 从欧洲迁往亚洲

25. 若该图表示近年来我国民工流动的主要方向，则该图表示的可能是

- A. 从湖南流往广东 B. 从河北流往山东 C. 从广东流往北京 D. 从上海流往四川

政治部分 在下列各题的四个选项中，只有一项是最符合题意的。（每小题 2 分，共 50 分）

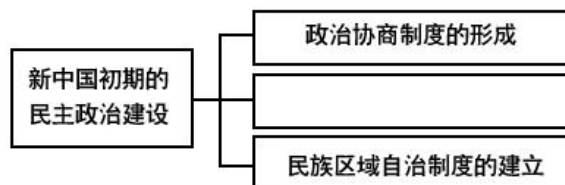
26. 2016 年 2 月 25 日，国务院法制办关于公布《中华人民共和国反不正当竞争法（修订草案送审稿）》公开征求意见，征求社会各方面意见。国务院法制办广泛征求社会各方面意见，从根本上说是由___决定的
A. 我国根本政治制度 B. 人民民主专政性质 C. 依法行政的原则 D. 中国共产党的领导
27. 2016 年 3 月 5 日~3 月 15 日，第十二届全国人民代表大会第四次会议在京举行。本届人大到会代表 2943 人，他们来自全国各省、自治区、直辖市、香港特别行政区、澳门特别行政区和中国人民解放军等 35 个选举单位，各方代表均占一定比例。这说明我国
A. 人民民主具有真实性 B. 社会主义民主具有全民性
C. 人民民主具有广泛性 D. 我国人民享有广泛的民主权利
28. 我国公民依法行使政治权利，其中公民最基本的民主权利，也是公民参与管理国家和管理社会的基础和标志的是
A. 监督权 B. 选举权和被选举权 C. 政治自由 D. 建议权
29. 近年我国出国旅游越来越火。不少国家为了方便中国旅客，写出带有中文的标牌。但也有这样一类中文警示：“请不要随地吐痰”“请勿乱刻乱画”“请自觉排队等候”等。这告诫我们
①公民要自觉维护国家的荣誉 ②公民要有国家主人翁意识，尊重人格和国格
③公民要充分行使政治权利 ④公民要维护国家安全
A. ①② B. ①③ C. ②④ D. ③④
30. 2016 年博鳌亚洲论坛于 3 月 22 日在海南琼海博鳌召开。假如你有幸成为其中的一名志愿者，你认为在服务过程中应当
①维护国家的安全、荣誉和利益 ②遵守宪法和法律，维护社会稳定
③直接管理有关国家事务 ④不受约束地行使言论自由权
A. ①③ B. ①② C. ③④ D. ②④
31. 2016 年 3 月 13 日上午，在十二届全国人大四次会议上，最高人民检察院检察长曹建明报告：全国检察机关共立案侦查职务犯罪案件 40834 件 54249 人。其中，原省部级以上干部 41 人。材料最能体现的政治生活基本原则是
A. 坚持为人民服务的原则 B. 坚持依法行政的原则
C. 坚持个人利益与国家利益相结合的原则 D. 坚持法律面前一律平等的原则
32. 黑龙江佳木斯四名青年大学生在小偷被抓求饶时，仍然对其拳打脚踢，把小偷逼得跳进冰冷的河里并眼睁睁看着他淹死。法院审理认为，四人的行为已构成故意杀人罪，分别判处三年以上有期徒刑。上述材料警示我们
①犯罪分子的权利不受到法律的保护 ②任何公民的违法犯罪行为都要受到法律的制裁
③必须在社会主义法制的轨道上行使公民权利
④应坚持人道主义，对一些小的错误应睁一只眼闭一只眼
A. ①③ B. ②④ C. ②③ D. ①④
33. 某市物价部门拟从明年起调整水价向社会征求意见。作为公民，我们可以通过哪些方式参与民主决策
①社情民意反映制度 ②社会听证制度 ③重大事项社会公示制度 ④网上评议政府
A. ①③④ B. ②③④ C. ①②③ D. ①②④
34. 2015 年 6 月，某市民发现当地有关行政部门的个别工作人员没有切实履行食品安全监管职责，于是打电话向该部门反映问题并提出建议。该市民行使监督权的方式是
A. 社情民意反映制度 B. 舆论监督制度 C. 社会听证制度 D. 信访制度
35. 高考关乎每个家庭，高考改革引起全民关注。许多中学生通过网上专题论坛发表对新改革方案的意见和建议；有教育专家撰写论文指出“如果只是局限科目调整，却不对招生制度进行改革，改革效果会大打折扣”。上述材料表明
①公民通过专家咨询制度参与民主决策 ②有利于决策广泛集中民智，增强决策的科学性
③公民通过舆论监督依法行使监督权 ④网络有利于促进公民对决策的理解，推动决策的实施
A. ①② B. ①④ C. ②③ D. ②④

36. 凡是关系村民切身利益的问题，先由村党支部、村委会召开一次联席会议，研究提出初步方案；再提交村民会议对方案进行二次审议，做出决定；然后由村委会将方案在实施前、实施中、实施后三次向全体村民公布。由此可见，村委会是村民_____的基层群众性自治组织，是村民民主管理村务的机构。
- A. 民主选举、民主决策、民主管理
B. 民主决策、民主管理、民主监督
C. 自我管理、自我教育、自我服务
D. 自我决策、自我监督、自我管理
37. 某社区举行了居民政治参与的交流活动：甲作为选民参加了一次直接选举人大代表的活动；乙找过县人大代表反映菜市场环境问题；丙对居委会工作提出了批评建议；丁参加了县政府改造“花园大桥”听证会。据此可以判断
- A. 甲选举的是省人大代表
B. 乙积极参与基层民主自治
C. 丙直接行使了民主权利
D. 丁参与对政府的民主管理
38. 目前中国有1亿多学龄前儿童，规模居世界第一。为加快学前教育发展，教育部公布一批试点地区，并要求认真试点，搞好调研，及时总结经验。这表明，我国政府
- ①切实履行组织社会主义文化建设的职能
②切实履行组织社会主义经济建设的职能
③坚持为人民服务的工作态度
④坚持从群众中来到群众中去的工作方法
- A. ①③④
B. ②③④
C. ①②④
D. ①②③
39. 国务院法制办2016年2月1日发布《无证无照查处办法（征求意见稿）》，向社会广泛征求意见。征求意见稿旨在厘清监管职责，完善监管措施，服务大众创业。同时，在确保正当经营秩序的前提下，根据创业需要，对无证无照经营区分情况，不一概取缔，为社会主体创业提供方便。这一做法体现了
- ①政府依法行政，弱化管理职能
②政府求真务实的工作作风
③国家尊重公民的知情权参与决策的权利
④在我国，公民是立法的主体
- A. ①②
B. ①④
C. ②③
D. ③④
40. 李克强总理多次强调“有权不可任性”，这要求政府
- A. 扩展权力，提高效率
B. 依法行政，接受监督
C. 简政放权，弱化管理
D. 发扬民主，任意决策
41. 2016年2月14日，人力资源和社会保障部透露，2016年城镇居民医保的补助标准将提高60元，城镇居民个人缴费基础也将提高。这体现了我国政府履行_____的职能。
- A. 维护国家长治久安
B. 组织社会主义经济建设
C. 推进生态文明建设
D. 加强社会建设
42. 2015年1月9日，2014年度国家科学技术奖励大会在北京人民大会堂隆重举行。国家领导人习近平、李克强等出席大会并为获奖代表颁奖。这体现了我国政府
- A. 保障人民民主和维护国家长治久安的职能
B. 组织社会主义经济建设的职能
C. 组织社会主义文化建设的职能
D. 加强社会建设的职能
43. 在日常生活中，我们每时每刻都会感受到政府的作用。下列选项中能体现政府管理人们社会生活的是
- ①派出所为林先生的儿子登记户口
②新办企业领取营业执照
③中央电视台每天播报天气预报
④交管部门严查醉酒驾车
- A. ①②③
B. ②③④
C. ①②④
D. ①③④
44. 近年来，总计有11.2167亿用户的信息数据因拖库和撞库等原因被泄露。下列属于政府切实担起守护人民信息安全的职责的措施有
- ①履行政治职能，严厉打击网络违法行为
②履行生态文明建设职能，创造良好的社会环境
③履行社会建设职能，协调人民内部矛盾
④履行经济管理职能，规范网络秩序
- A. ①②
B. ①④
C. ②③
D. ③④
45. 在十二届全国人民代表大会的代表中，一线的工人、农民代表占代表总数的13.42%，行业专业技术人员代表占代表总数的20.42%，民主党派和无党派代表占20.22%，中国人民解放军占代表总数的9.3%，此外还包括香港、澳门特别行政区和归国华侨等方面的代表。这充分体现出我国社会主义民主的_____具有_____的特征。
- A. 权利、真实性
B. 主体、广泛性
C. 权利、阶级性
D. 主体、平等性

46. 第十二届全国人民代表大会第四次会议赞成 2467 票、反对 299 票，表决通过《关于 2015 年中央和地方预算执行情况与 2016 年中央和地方预算的决议草案》。这说明
- ①全国人大代表有决定权 ②全国人民代表大会有审议权
③全国人民代表大会有监督权 ④全国人民代表大会实现民主集中制原则
- A. ①② B. ①③ C. ②④ D. ③④
47. 下列有关沈阳市政府与沈阳市人大两者关系的表述中正确的是
- A. 沈阳市政府对沈阳市人大负责 B. 沈阳市政府接受沈阳市人大领导
C. 沈阳市政府与沈阳市人大互相监督 D. 沈阳市政府接受沈阳市人大的命令
48. 2016 年 3 月 15 日，第十二届全国人民代表大会第四次会议通过关于修改《中华人民共和国慈善法》的决定，这主要体现全国人民代表大会的
- A. 立法权 B. 决定权 C. 任免权 D. 监督权
49. 财政教育经费投入不足，是长期以来制约我国教育事业发展的一个重要因素。面对这一问题，假如你是人大代表，可以
- A. 行使立法权，完善有关教育经费投入的法律法规
B. 行使决定权，统筹规划各级政府的财政教育经费投入
C. 行使提案权，联名其他代表制定财政教育经费使用计划
D. 行使质询权，督促各级政府依法落实财政教育经费投入
50. 在下列“假如我是人大代表”的模拟情景中，“我”的行为不当的是
- A. 当我被选为人大代表后，在人大网站专门开设群众信箱征集各方面意见
B. 当我调查到某工厂生产假冒伪劣产品时，立即拿出代表证要求厂家停产整顿
C. 当我调研发现信息网络安全问题日益突出时，在人大会议上联名提出相关议案
D. 当我了解到规划局有法不依，执法不严时，在人大会议上联名向该局提出质询

历史部分 在下列各题的四个选项中，只有一项是最符合题意的。（每小题 2 分，共 50 分）

51. 1848 年诞生了一种新的社会主义理论，被誉为“沐浴全世界工人的阳光”。这种理论诞生的标志是
- A. 《人权宣言》的颁发 B. 《共产党宣言》的发表
C. 巴黎公社的成立 D. 普法战争的爆发
52. 社会主义运动经历了从空想到科学、从理论到实践、从理想到现实的历程。其中，社会主义“从理想到现实”的标志事件是
- A. 《共产党宣言》发表 B. 第一国际成立
C. 巴黎公社的诞生 D. 俄国十月革命的胜利
53. 马克思在评价 19 世纪晚期的某一历史事件时说：“掌握政权的第一个条件是改造传统的国家工作机器，把它作为阶级统治的工具消灭掉……它（所建立的政权）实质上是工人阶级的政府……”他所评价的是
- A. 欧洲三大工人运动 B. 巴黎公社 C. 二月革命 D. 十月革命
54. 俄国革命家托洛茨基指出：“十月革命借助战争完成了一次历史性转换：俄国不再是西欧资本主义的仿效者，而是世界历史的引领者。”这说明十月革命
- A. 开创了人类文明发展的新道路 B. 促进了俄国迅速完成社会转型
C. 否定了西方资本主义发展模式 D. 借鉴资产阶级的民主政治制度
55. 下图是某位同学的课堂笔记。其中空白处应是



- A. 人民代表大会制度的创立 B. “一国两制”构想的提出
C. “九二共识”的达成 D. “村民民主自治制度的建立”

56. 1980年，邓小平在《党和国家领导制度的改革》讲话中指出：“从党和国家的领导制度方面来说，主要的弊端就是官僚主义现象，权力过分集中的现象，家长制现象，干部领导职务终身制现象和形形色色的特权现象。”该讲话的发表
- A. 标志着改革开放事业的起步
B. 反映出社会主义法律体系的完善
C. 开启了建设中国特色社会主义新时代
D. 体现了党对新时期民主政治建设的初步构想
57. 2015年11月，习近平、马英九在新加坡举行了历史性会晤。会谈中，习近平指出：无论哪个党派、团体，无论其过去主张过什么，只要承认“九二共识”的历史事实，认同其核心意涵，我们都愿意同其交往。习近平总书记谈及的“核心意涵”是指
- A. 两岸直接“三通”
B. “一个中国”原则
C. 经济密切合作
D. “一国两制”构想
58. “如果这些原则不仅适用于各国之间，而且适用于一般国际关系之中，它将形成和平和安全的坚实基础，而现实存在的恐惧和疑虑，则将为信任感所代替。”（《中印总理联合声明》）这里的“它”是
- A. “一边倒”
B. “不结盟”方针
C. 和平共处五项原则
D. “另起炉灶”
59. 习近平在庆祝全国人民代表大会成立60周年大会上指出，要加强和改进监督工作，拓宽人民监督权力的渠道，抓紧形成不想腐、不能腐、不敢腐的有效机制，让权力在阳光下运行。这就需要
- A. 坚持依法治国完善民主监督机制
B. 中国共产党与民主党派联合执政
C. 实行民族区域自治制度
D. 基层民主实行间接选举
60. “小球转动大球”是中美外交史上的一段佳话，这段佳话反映的历史事件是
- A. “乒乓外交”
B. 日内瓦会议
C. 中国重返联合国
D. 万隆会议
61. “冷战”是指二战后以美国为首的资本主义国家对苏联等社会主义国家采取的除武装进攻以外的一切敌对行动，其“行动不包括
- A. 推行杜鲁门主义
B. 建立北约组织
C. 实施马歇尔计划
D. 发动朝鲜战争
62. 二战后，欧洲国家普遍出现了经济困难，美国提出应对措施，援助西欧复兴经济，并意图控制。这一举措是
- A. 建立北约组织
B. 实施马歇尔计划
C. 提出“杜鲁门主义”
D. 推行凯恩斯主义
63. 冷战格局是人类社会在应对现代性矛盾和危机过程中依据不同的政治理念追求不同的发展目标所导致的制度性裂变。材料认为冷战形成的主要原因是
- A. 社会制度意识形态差异
B. 失去战时同盟的基础
C. 美苏两国争夺世界霸权
D. 美国百姓对苏联敌视
64. 两极格局瓦解后，世界多极化趋势不断加强。引起世界格局变化的根源是
- A. 俄罗斯走出低谷
B. 中国的崛起
C. 世界经济力量的变化
D. 日本、西欧的崛起
65. 20世纪50~80年代，欧洲共同体形成，日本崛起并谋求政治大国地位，不结盟运动兴起。这一系列事件表明当时
- A. 两极格局已经瓦解
B. 欧洲与美国关系决裂
C. 社会主义阵营壮大
D. 两极格局中出现多极化趋势
66. 某《竹枝词》云：“脚痛腰酸晓夜忙，田头车戽响浪浪。高田车进低田出，只愿高低不做荒。”这首词描写的灌溉工具是



A. 耨车

B. 翻车

C. 筒车

D. 风力水车

67. “你耕田来我织布，我挑水来你浇园。寒窑虽破能避风雨，夫妻恩爱苦也甜”这是黄梅戏《天仙配》中的一段唱词，它反映了我国古代经济形态是
- A. 自然经济 B. 资本主义经济 C. 商品经济 D. 官营手工业
68. 中国官营手工业历史悠久、成就卓著，其中，能充分展示商周灿烂辉煌文明的手工业成就是
- A. 白瓷制造技术 B. 棉纺织技术 C. 青铜铸造技术 D. 青瓷制造技术
69. 中国古代有交易必须在“市”里进行和“日中为市”的严格限制，这种限制被打破始于
- A. 汉朝 B. 唐朝 C. 宋朝 D. 明朝
70. 古代南京云锦集历代织造工艺之大成，位列中国古代四大名锦之首，是专供宫廷御用或赏赐功臣之物。云锦配色多达十八种，大量使用金线，形成金碧辉煌的独特风格。其织造工艺高超，用“七个范子，八个障子”就能把杂乱无章的线理得井井有条，成语“七上八下”就出自云锦。南京云锦最有可能生产于
- A. 私营手工业 B. 官营手工业 C. 机器大工业 D. 家庭手工业
71. 《后汉书·王符传》：“举俗舍本农，趋商贾，牛马车舆，填塞道路，游手为巧，充盈都邑，务本者少，游食者众。”面对此情况，统治者采取的措施是
- A. 闭关锁国政策 B. 重农抑商政策
C. 中央集权制度 D. 郡国并行制度
72. 《耕织图·耕图》为南宋作品，为历代帝王推崇和嘉许。清康熙帝命画家重新绘制了该作品（右图），也真实地反映了清代生产方式。该作品主要反映出清代
- A. 铁农具与犁耕技术开始流行 B. 出现一牛一人的耕作技术。
C. 农耕技术没有突破性的发展 D. 中国出现了新的生产关系
73. 歌谣：“黄道婆，黄道婆，教我纱，教我布，二只筒子二匹布。”描述的是
- A. 西汉时期的丝织业 B. 北宋时期的丝织业 C. 元代的棉纺织业 D. 明清资本主义萌芽
74. 《清史稿》记载了晋商捐赠白银给清王朝，清王朝则用“赐产”“入籍”“赐职”以及特许经营等方法予以回报的史实。可见，当时晋商的发展
- A. 加快了清朝统治的没落趋势 B. 与清政府有相互借力的一面
C. 表明清政府鼓励工商业发展 D. 使商人与政府经济利益一致
75. 清代旧例：“如果有打造双桅五百石以上违式船只出海者，不论官兵民人，俱发边卫充军”，“凡内地商人赴外洋者，必威里具结状，限往返期，逾限者连坐。……过三年不归者，不听回籍。”这体现了清朝实行的政策是
- A. 重农抑商 B. 闭关锁国 C. 鼓励贸易 D. 工商食官

