

### 2013 地理中考复习——读图专项训练

八上

出题人：孙婷 苏丹 审题人：苏丹

姓名：\_\_\_\_\_ 班级：\_\_\_\_\_

#### 八上部分

1. 读“中国的疆域”图，完成下列各题。

(1) 从东西半球看，中国位于\_\_\_\_\_半球；从南北半球看，中国位于\_\_\_\_\_半球。

(2) 从海陆位置看，中国位于\_\_\_\_\_洲\_\_\_\_\_部，\_\_\_\_\_洋的\_\_\_\_\_岸。

(3) 我国大部分地区位于\_\_\_\_\_纬度，五带中的\_\_\_\_\_带，少数地区地处五带中的\_\_\_\_\_带，没有\_\_\_\_\_带。

(4) 我国陆地领土面积约\_\_\_\_\_万平方千米，仅次于\_\_\_\_\_，居世界第\_\_\_\_\_位。

(5) 图中数字代表的陆上邻国及隔海相望的国家分别是①\_\_\_\_\_②\_\_\_\_\_③\_\_\_\_\_④\_\_\_\_\_⑤\_\_\_\_\_⑥\_\_\_\_\_。

(6) 我国濒临的海洋，从北向南依次是：\_\_\_\_\_海、\_\_\_\_\_海、\_\_\_\_\_海和\_\_\_\_\_海，其中\_\_\_\_\_海有我国最大的盐场——\_\_\_\_\_盐场，\_\_\_\_\_海有我国最大的渔场——\_\_\_\_\_渔场。

2. 读“中国政区图”和“省级行政区的轮廓图”，按要求完成下列各题

(1) 我国共有\_\_\_\_\_个省级行政单位，包括\_\_\_\_\_个省、\_\_\_\_\_个自治区、\_\_\_\_\_个直辖市和\_\_\_\_\_个特别行政区。

(2) 我国的行政区域，基本分为\_\_\_\_\_、\_\_\_\_\_、\_\_\_\_\_三级。

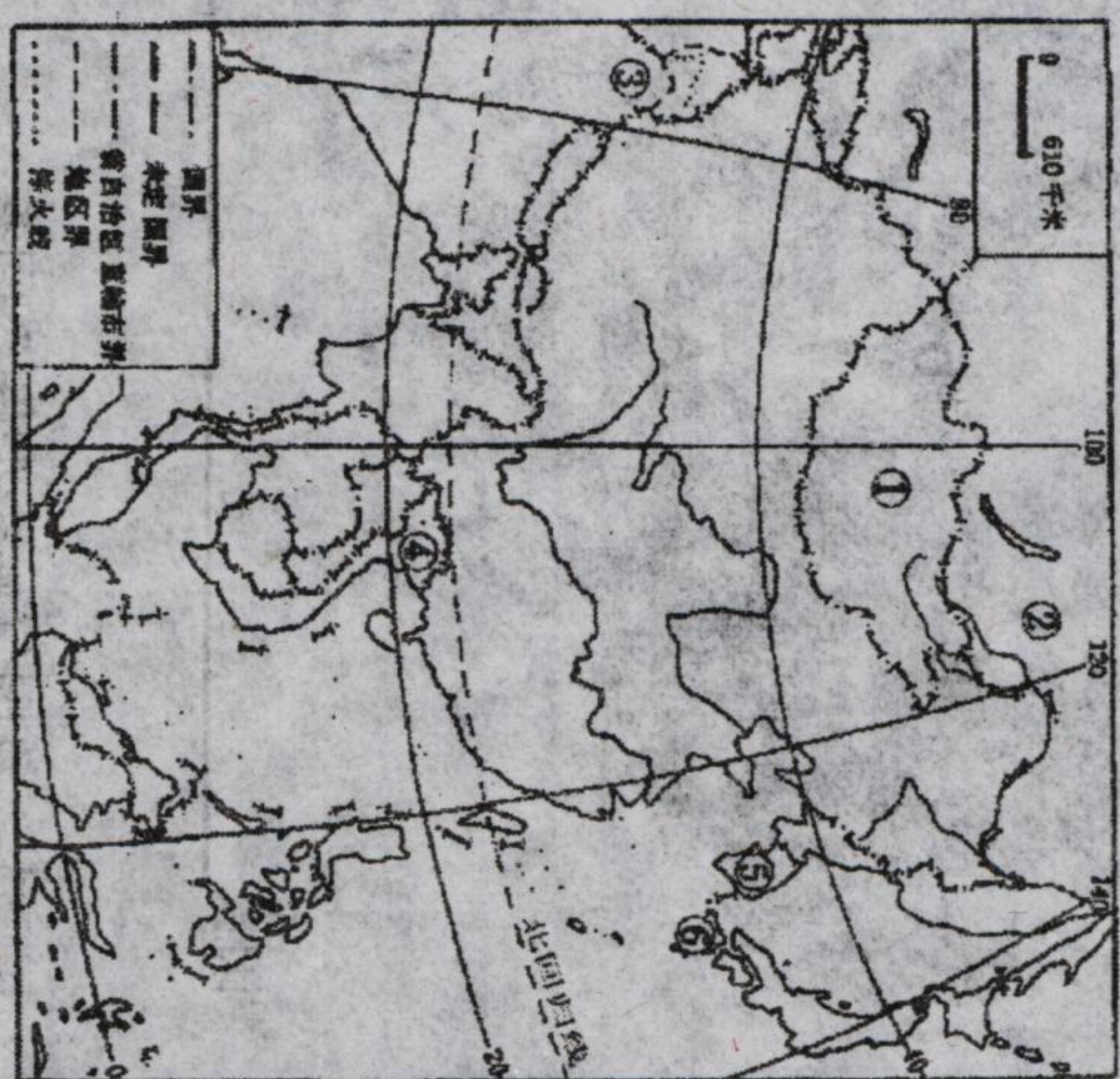
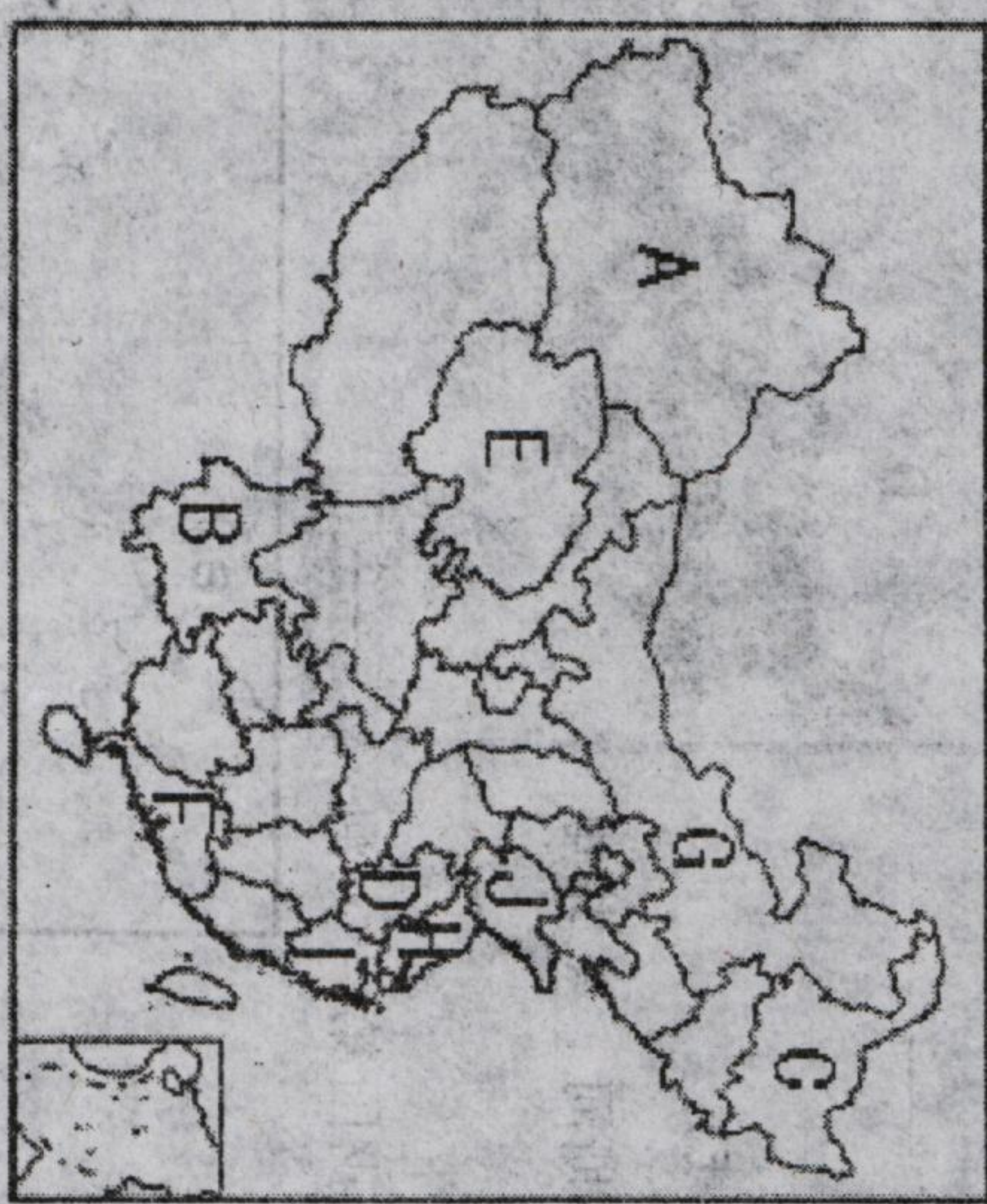
(3) 长江、黄河的干流共同流经的省有\_\_\_\_\_和\_\_\_\_\_。

(4) 跨经度最广的省区是\_\_\_\_\_，跨纬度最广的省区是\_\_\_\_\_。

(6) 面积最大的省区是\_\_\_\_\_。

(7) 根据图中字母填写下列表格

图号	A	B	C	D	E	F	G	H
全称								
简称								
行政中心								



3. 读“我国人口密度分布”图，回答：

(1) A 表示黑龙江省的\_\_\_\_\_市，B 是云南省的\_\_\_\_\_县。这条线是我国人口地理分界线，以这条线为界，\_\_\_\_\_地区人口密度大，\_\_\_\_\_地区人口密度小。

(2) 我国是世界上人口\_\_\_\_\_的国家。实行\_\_\_\_\_，是我国一项基本国策。

(3) 我国共有\_\_\_\_\_个民族，\_\_\_\_\_人口最多，分布遍及全国各地，以\_\_\_\_\_部和\_\_\_\_\_部最为集中；人口最多的少数民族是\_\_\_\_\_，各少数民族主要分布在\_\_\_\_\_、\_\_\_\_\_和\_\_\_\_\_地区；各民族分布具有“\_\_\_\_\_、\_\_\_\_\_”的特点。

4. 读“中国地势三级阶梯示意图”，回答：

(1) 我国地形的特征：\_\_\_\_\_、\_\_\_\_\_。

(2) 我国地势的特征：\_\_\_\_\_、\_\_\_\_\_。



(3) 第一级阶梯与第二级阶梯的分界线是：\_\_\_\_\_。

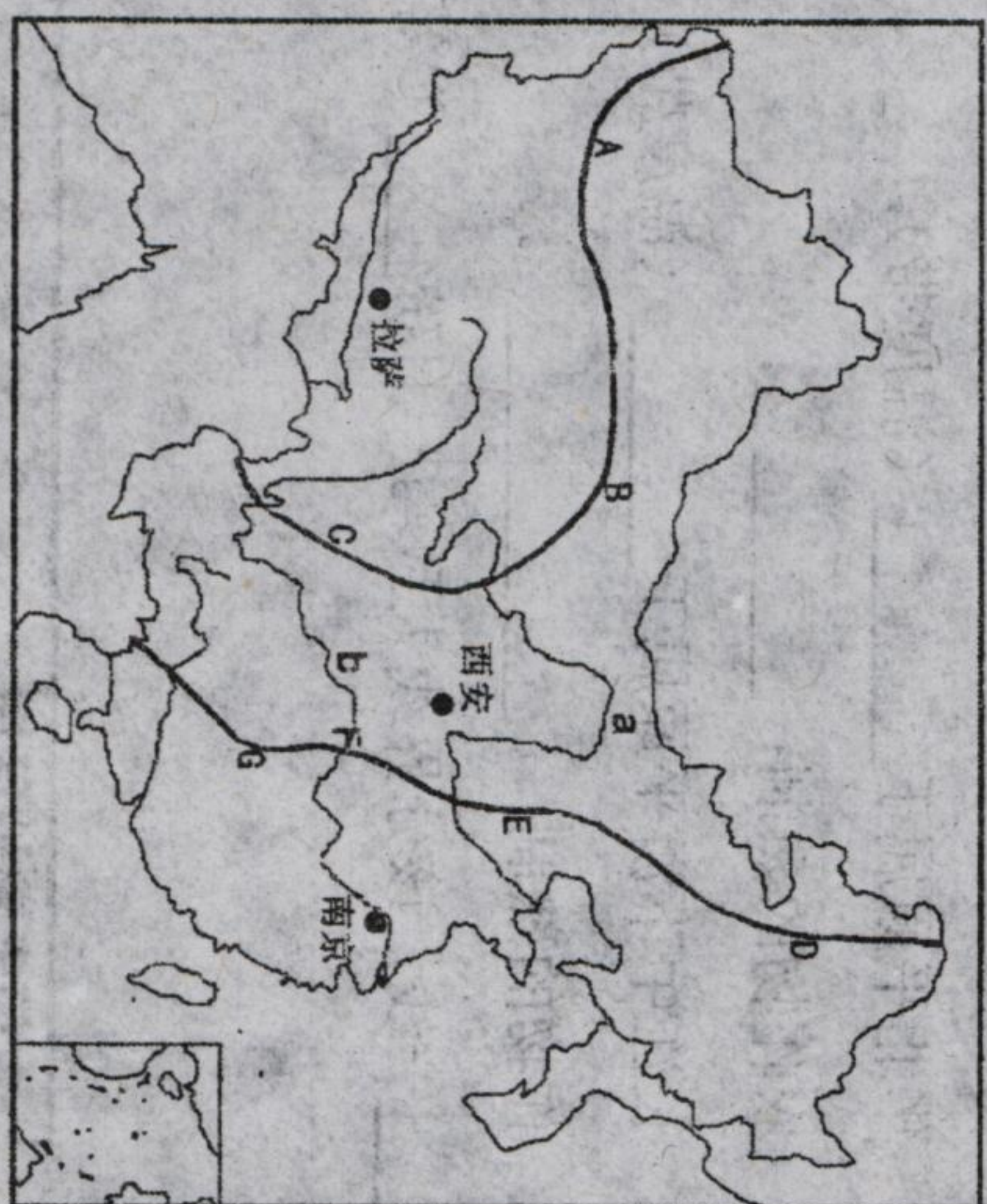
A \_\_\_\_\_ (山脉)—B \_\_\_\_\_ (山脉)—C \_\_\_\_\_ 山脉。

(4) 第二与第三级阶梯的分界线是：\_\_\_\_\_。

D \_\_\_\_\_ 岭—E \_\_\_\_\_ (山脉)—F \_\_\_\_\_ 山—G \_\_\_\_\_ 山

(5) a 表示的河流是\_\_\_\_\_，b 表示的河流是\_\_\_\_\_，它们的流向都是自\_\_\_\_\_向\_\_\_\_\_。

(6) 我国的地势对水力资源方面的影响：\_\_\_\_\_。



5. 读“中国地形图”，回答问题：

(1) 写出图中序号代表的地形区名称：

A、\_\_\_\_\_盆地 B、\_\_\_\_\_盆地 C、\_\_\_\_\_盆地 D、\_\_\_\_\_盆地

E、\_\_\_\_\_高原 F、\_\_\_\_\_高原 G、\_\_\_\_\_高原 H、\_\_\_\_\_高原 I、\_\_\_\_\_平原 J、\_\_\_\_\_平原 K、\_\_\_\_\_平原 L、\_\_\_\_\_丘陵