

# 高一文科地理试卷

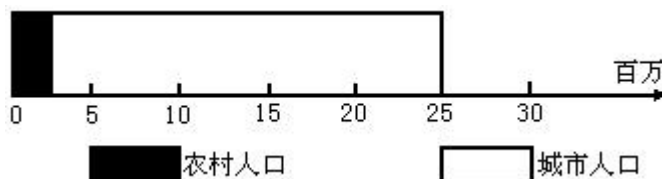
考试时间：90 分钟 试题满分：100 分

## 一、单项选择题（共 35 题，每小题 2 分，共 70 分）

下图为某地人口结构图，根据此图回答 1—3 题。

1. 该图说明该地区

- A. 城市化水平高
- B. 城市人口为 2500 万
- C. 人口密度大
- D. 约 10% 的人口在郊区



2. 此人口结构状况，比较符合下列哪个国家

- A. 巴西
- B. 印度
- C. 英国
- D. 俄罗斯

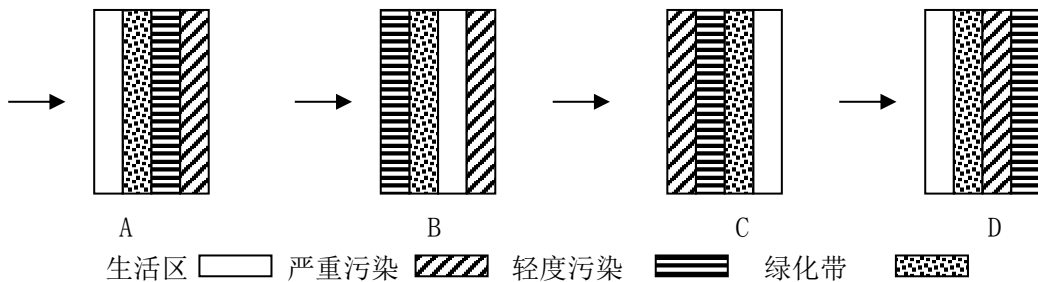
3. 形成上述国家这种人口状况的根本原因是

- A. 受国家政策的影响
- B. 城市经济的发展需要大量的劳动力
- C. 社会生产力较发达
- D. 国家土地面积狭小，农业用地数量很少

4. 城市化过程必然会引起

- A. 农业人口比重下降
- B. 绿地面积减少
- C. 环境污染日益加重
- D. 经济发展趋缓

5. 下列四图为某市功能分区的四种方案，其中最合理的是



6. 下列叙述正确的是

- ①目前，城乡的收入差距日益缩小
- ②发展乡镇企业是实现乡村城镇化的重要途径
- ③城市内部空间结构不随着城市的发展而变化
- ④乡村城镇化，加快了我国逆城市化的进程

- A. ①②
- B. ①③
- C. ①④
- D. ②④



7. 城市住宅问题最严重的地区在：

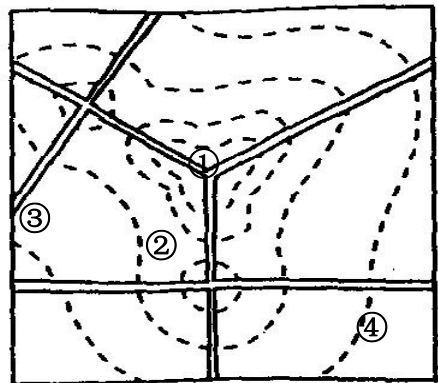
- A 发达国家的中心城市
- B 发展中国家的中小城市
- C 发达国家的大城市
- D 发展中国家的大城市





8. 保护和改善城市环境的正确措施是

- A. 阻止乡村人口进城
- B. 改善城市的交通和居住条件
- C. 丢弃旧城, 建立高标准新城市
- D. 无限制扩大城市的占地面积

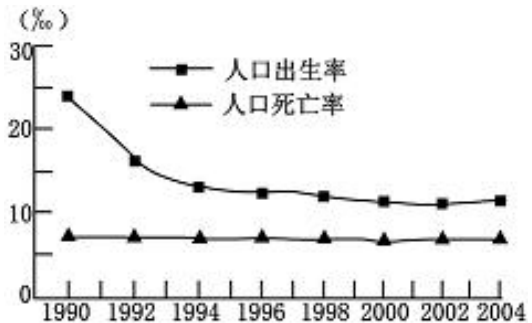
读某城市地租分布等值线示意图, 回答9—11题。

9. 图例  适宜布局在图中的地点是  
 A. ①    B. ②    C. ③    D. ④
10. 图例  适宜布局在图中的地点是  
 A. ①    B. ②    C. ③    D. ④
11. 若要在①②③④四处中选一处建大型超市, 最好选在  
 A. ①    B. ②    C. ③    D. ④
12. 读某省人口出生率、死亡率变化图, 目前该省人口增长的特点是  
 A. 总量呈下降态势  
 B. 总量仍呈增长态势  
 C. 总量呈零增长态势  
 D. 增长模式没有变化

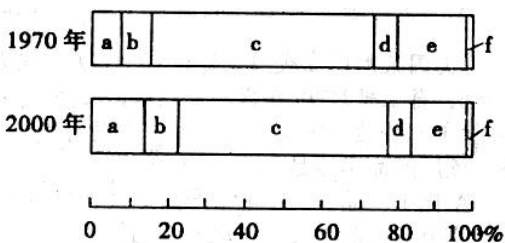


 商业中心用地   
  外围商业用地   
  住宅用地   
  工业用地

13. 下图为世界六大洲(除南极洲)人口占世界总人口比例的变化图。图中c大洲人口比例降低的主要原因是



12 题图



- A. 经济快速发展
- B. 部分国家实行了计划生育政策
- C. 战争和灾害
- D. 人口大量外迁

下图是“某城市中心的一条主要街道的景观图”, 读图分析回答14、15题。



14. 商店和住宅位于  
 A. D区和A、C区    B. A区和B、C区    C. C区和A、E区    D. B区和E、D区

15. 图中B、C、D、E功能类型分别是

- A. 工业区 商业区 工业区 住宅区    B. 住宅区 工业区 商业区 工业区  
 C. 住宅区 商业区 住宅区 工业区    D. 商业区 工业区 住宅区 商业区

16. 下列各组单位中，一般县城没有的是

- ①百货公司、高级中学                      ②专业医院、大专院校  
 ③大型专业商店、星级宾馆                ④工厂、汽车站  
 A. ①③                      B. ②③                      C. ①④                      D. ②④

我国沿海某省一个课外小组某日测得当地日出、日落时间分别为北京时间 6:40、16:40。据此回答 17、18 题。

17. 该地的经度约为

- A. 120° E                      B. 125° E                      C. 115° E                      D. 110° E

18. 该日可能在

- A. 11 月                      B. 9 月                      C. 7 月                      D. 5 月

读下图 (abc 代表单元格), 回答 19—21 题。

19. 有关 a 气候的叙述, 正确的是

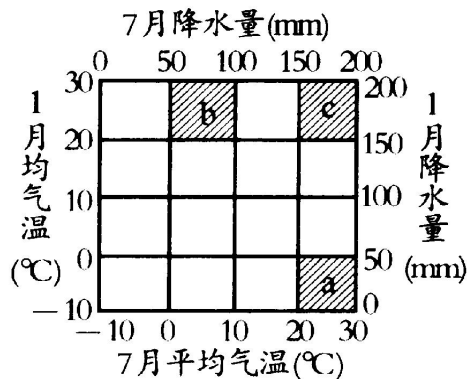
- A. 我国特有                      B. 雨热同期  
 C. 盛夏伏旱                      D. 冬雨夏干

20. b 地肯定位于

- A. 北半球大陆东岸    B. 北半球大陆西岸  
 C. 南半球大陆东岸    D. 南半球大陆西岸

21. abc 三种气候类型分布的纬度从低到高依次为

- A. a—b—c                      B. b—c—a  
 C. c—a—b                      D. c—b—a



22. 以下属于海陆间大循环中水汽输送环节的是

- A. 冬季风南下    B. 钱塘江水入海    C. 台风登陆宁波    D. 高山冰川融化

23. 下列关于洋流的说法正确的是

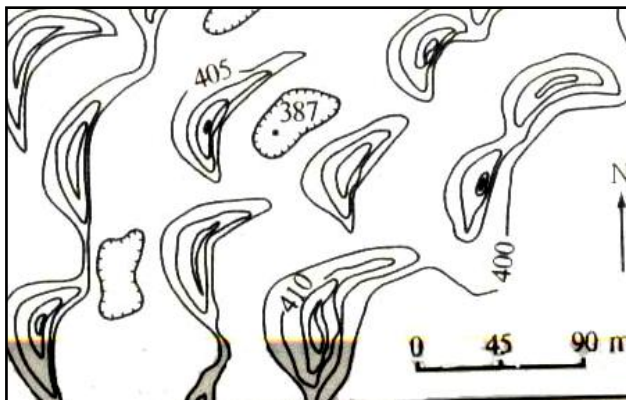
- A. 全球海洋表层洋流分别构成了以副热带和副极地为中心的大洋环流  
 B. 暖流对沿岸地区气候有增温减湿作用  
 C. 大西洋表层流向地中海的洋流属风海流  
 D. 洋流运动不利于海洋污染的净化

右图是某地区的等高线图, 读图完成 24、25 题。

24. 该地区的盛行风是:

- A. 东北风                      B. 东南风  
 C. 西北风                      D. 西南风

25. 我国下列地形区中, 最可能有此



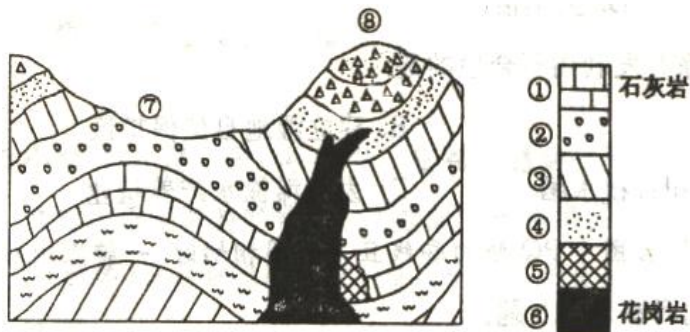
种地貌分布的是：

- A. 云贵高原      B. 塔里木盆地      C. 珠江三角洲      D. 黄淮平原

读“地质构造示意图”，回答 26—28 题。

26. 图中①—④地层和⑤、⑥岩石按形成过程由老到新的次序排列依次为

- A. ①②③④⑤⑥  
 B. ①②③④⑥⑤  
 C. ⑤⑥①②③④  
 D. ⑥⑤①②③④



27. 图中最有可能储存石油的是

- A. ⑤处      B. ⑥处  
 C. ⑦处地下某处      D. ⑧处地下某处

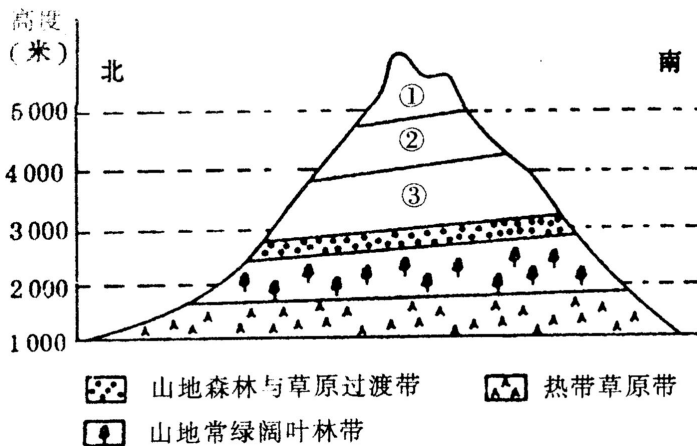
28. ⑤处岩石最有可能是

- A. 板岩      B. 大理岩      C. 玄武岩      D. 砂岩

下图表示的是山地垂直自然带的分布，读图回答 29—32 题。

29. 图中①②③依次代表

- A. 积雪冰川带、高寒荒漠带、高山草原带  
 B. 高寒荒漠带、山地落叶阔叶林带、高山草原带  
 C. 高寒荒漠带、积雪冰川带、高山草原带  
 D. 高山草原带、山地针叶带、高寒荒漠带



30. 决定该山山麓自然带的主导因素是

- A. 纬度位置      B. 海陆位置      C. 山脉走向      D. 山体坡度

31. 决定该山垂直自然带变化的主导因素是

- A. 水热组合条件      B. 降水量      C. 大气环流      D. 太阳辐射

32. 该山可能位于

- A. 赤道附近      B. 40° S 附近      C. 40° N 附近      D. 极圈附近

33. 根据板块构造学说，下列各大洲之间距离今后将逐步扩大的是

- A. 非洲、欧洲      B. 亚洲、北美洲      C. 非洲、亚洲      D. 北美洲、南美洲

34. 下列岩石中可能含有化石的是

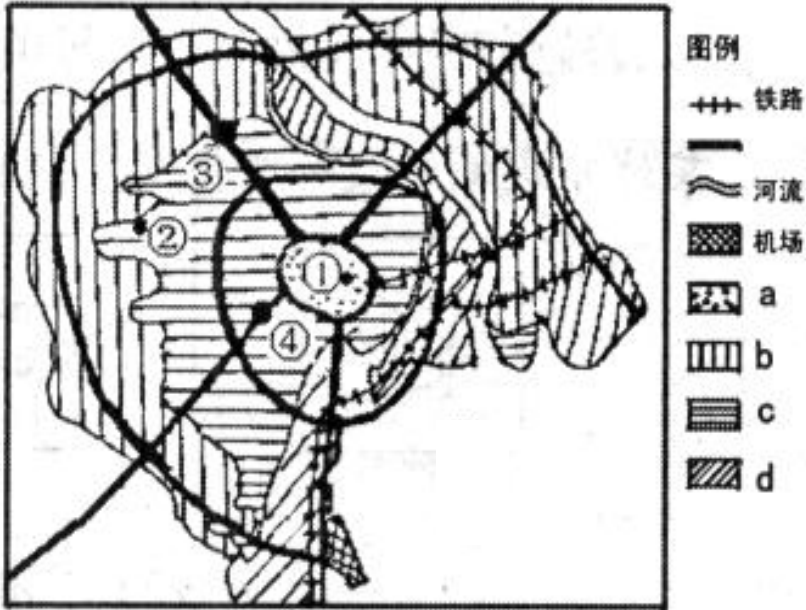
- A. 花岗岩、石灰岩      B. 大理岩、石灰岩      C. 石灰岩、页岩      D. 页岩、大理岩

35. 自然带明显呈带状分布，且南北对称的是

- A. 亚欧大陆      B. 北美大陆      C. 非洲大陆      D. 南美大陆

二、综合题（共4小题，30分）

36. 读某城市规划图，回答下列问题。（6分）



(1) 图例中的四个字母分别代表四种城市功能用地。请将下列字母与城市功能用地对应关系连线。

- |      |   |
|------|---|
| 工业用地 | a |
| 居住用地 | b |
| 绿化用地 | c |
| 商业用地 | d |

(2) 图中①②③④四个地区分别是四个不同级别的中心地。其中，级别最高的是\_\_\_\_\_

(3) ①、②、③、④点，比较地租高低\_\_\_\_\_

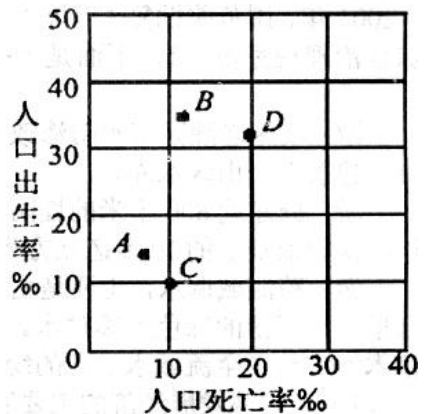
37. 某四个国家人口增长率如下图所示。读图，完成下列要求。（6分）

(1) A国人口自然增长率是\_\_\_\_\_‰。

(2) 人口的发展状况总是与经济发展水平相关联。根据经济与人口关联性，图中四国，最可能属于发达国家的是\_\_\_\_\_。

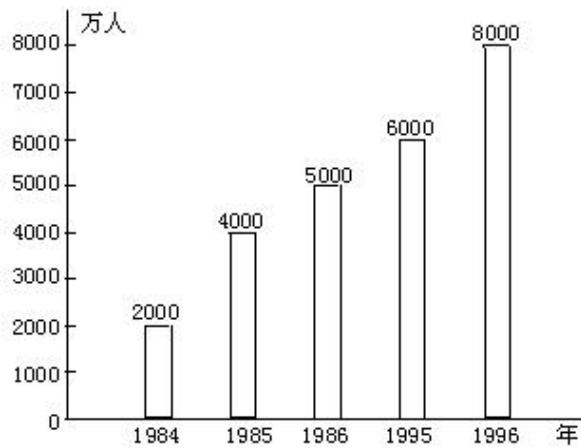
(3) B国可能面临的主要人口问题是什么？（从就业、资源两方面回答）

(4) 中国现行的人口政策是否适用于B、C两国？请分别说明。



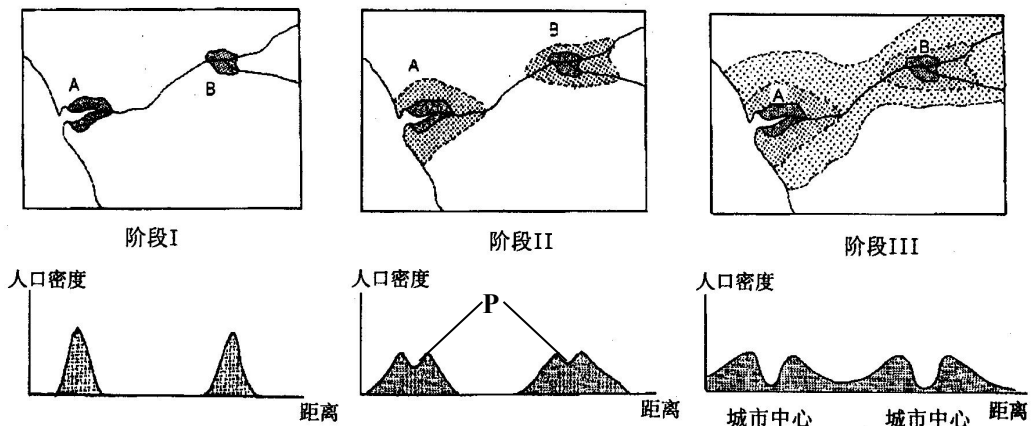
38. 读“1984年到1996年我国流动人口数量的变动

图”，回答下列问题：（9分）



- (1) 从1984年到1996年，我国人口流动在数量上呈\_\_\_\_\_的趋势。
- (2) 从流动方向上看，这一时期人口迁移和流动的方向主要是从\_\_\_\_\_到\_\_\_\_\_，从\_\_\_\_\_到\_\_\_\_\_。
- (3) 这一时期人口流动主要是自发性的，流动和迁移的目的主要是\_\_\_\_\_。
- (4) 这一时期的人口迁移与我国历史上的人口迁移相比较，引起的原因是否相同？其理由是\_\_\_\_\_。

39. 城市化是社会经济发展的重要表现和必然结果。下图是某地区 A、B 两个城市化发展过程示意图。分析 A、B 城市发展演变过程，回答下列问题。（9分）



- (1) 从阶段 I 到阶段III，A、B 城市化发展过程中城市人口和用地有什么变化？
- (2) 在阶段 II，P 处人口密度相对下降，原因是 \_\_\_\_\_，这种现象被称为\_\_\_\_\_。
- (3) 阶段 III，城市中心人口密度进一步下降，若该地区人口出现“钟摆式”移动现象，则该地区的功能区最有可能是\_\_\_\_\_，该阶段 AB 城市之间城市用地连成一片，形成\_\_\_\_\_。

高一文科地理答题纸

36. (6分)

(1)

工业用地 a

居住用地 b

绿化用地 c

商业用地 d

(2) \_\_\_\_\_ (3) 高低排序\_\_\_\_\_

37. (6分)

(1) \_\_\_\_\_ (2) \_\_\_\_\_

(3)

(4)

38. (9分)

(1) \_\_\_\_\_

(2) 从\_\_\_\_\_到\_\_\_\_\_ 从\_\_\_\_\_到\_\_\_\_\_

(3) 目的是\_\_\_\_\_

(4) 是否相同 \_\_\_\_\_

理由

39. (9分)

(1)

(2) 原因

这种现象被称为\_\_\_\_\_

(3) 功能区是\_\_\_\_\_，形成\_\_\_\_\_。