

26. (12分) 阅读相关材料及图6、图7, 完成下列要求。

材料: 2012年6月16日18时37分, 我国搭载男女三名航天员的神舟九号载人飞船, 在酒泉卫星发射中心成功发射升空, 并于6月29日胜利返回。

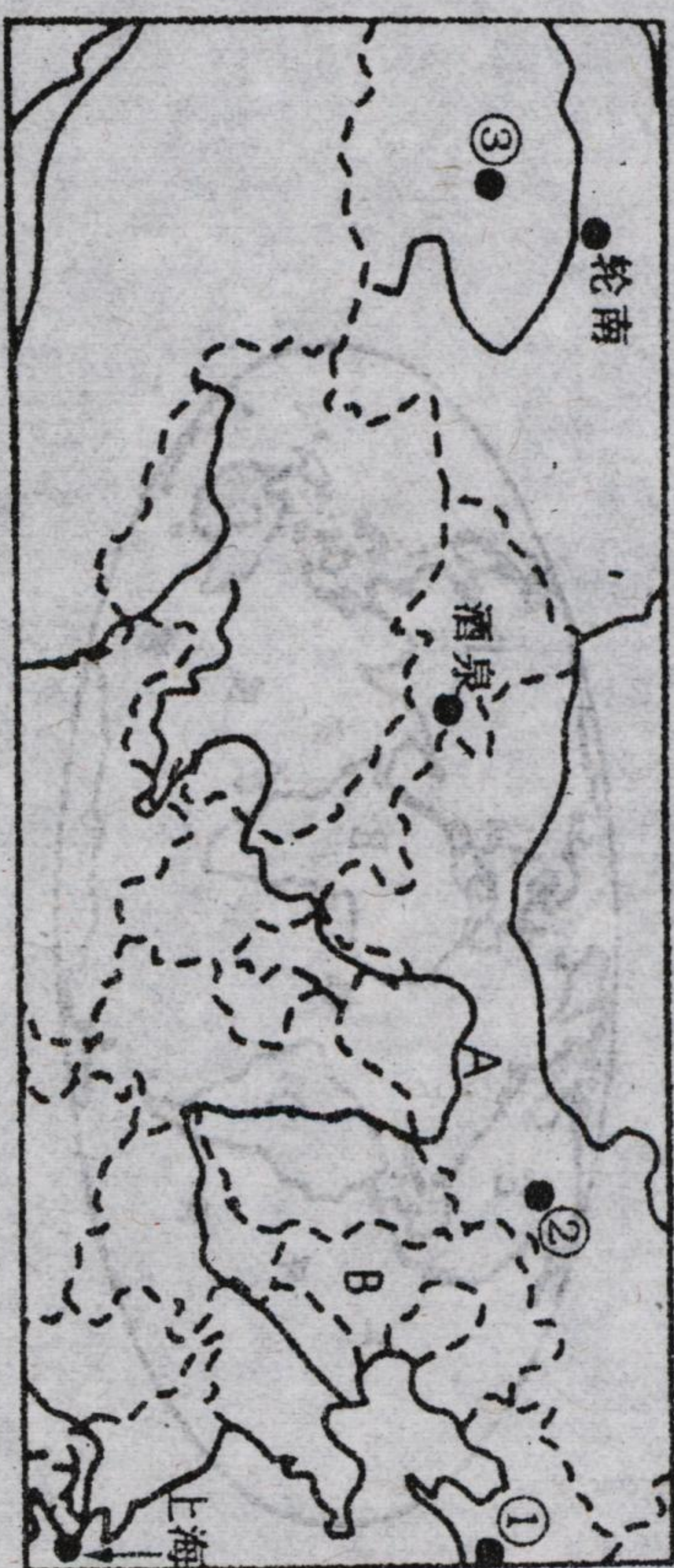


图6

(1) 酒泉卫星发射中心处于我国四大地理区域中的_____地区。该地区最突出的自然环境特征是_____。在图6中A所在的河套平原上, 人们利用_____河水发展了灌溉农业。

(2) 图6中西气东输的起点轮南位于我国地势三级阶梯中的第_____级阶梯, 轮南所在省级行政区的地形特点是“_____”; 西气东输的终点上海属于_____气候, 也是我国南北向铁路_____线的起止点。

(3) 图6中D地所处的温度带为_____, 年降水量低于500毫米, 该地农业多为_____, 种植的粮食作物以_____为主。

(4) 图7中a、b、c三幅图为图6中①、②、③三地的自然景观图, 按照自西向东的顺序排列, 下列选项中, 正确的是_____。

- A. b→a→c
- B. b→c→a
- C. c→a→b
- D. c→b→a




图7

27. (12分) 第30届夏季奥林匹克运动会将于北京时间2012年7月28日在英国伦敦开幕。

为了让世界更多地了解大连, 某旅行社导游小刘届时将到伦敦宣传我们家乡大连, 让我们和他一起完成下列任务。



图8

(1) 请你根据图8, 帮助导游小刘简单介绍大连的地理位置。

(2) 图9、图10分别是大连和伦敦的气温曲线与降水量柱状图。其中表示大连气候特征的是图_____, 大连的气温年较差约为_____, 降水最多的月份为_____, 气候类型是_____。

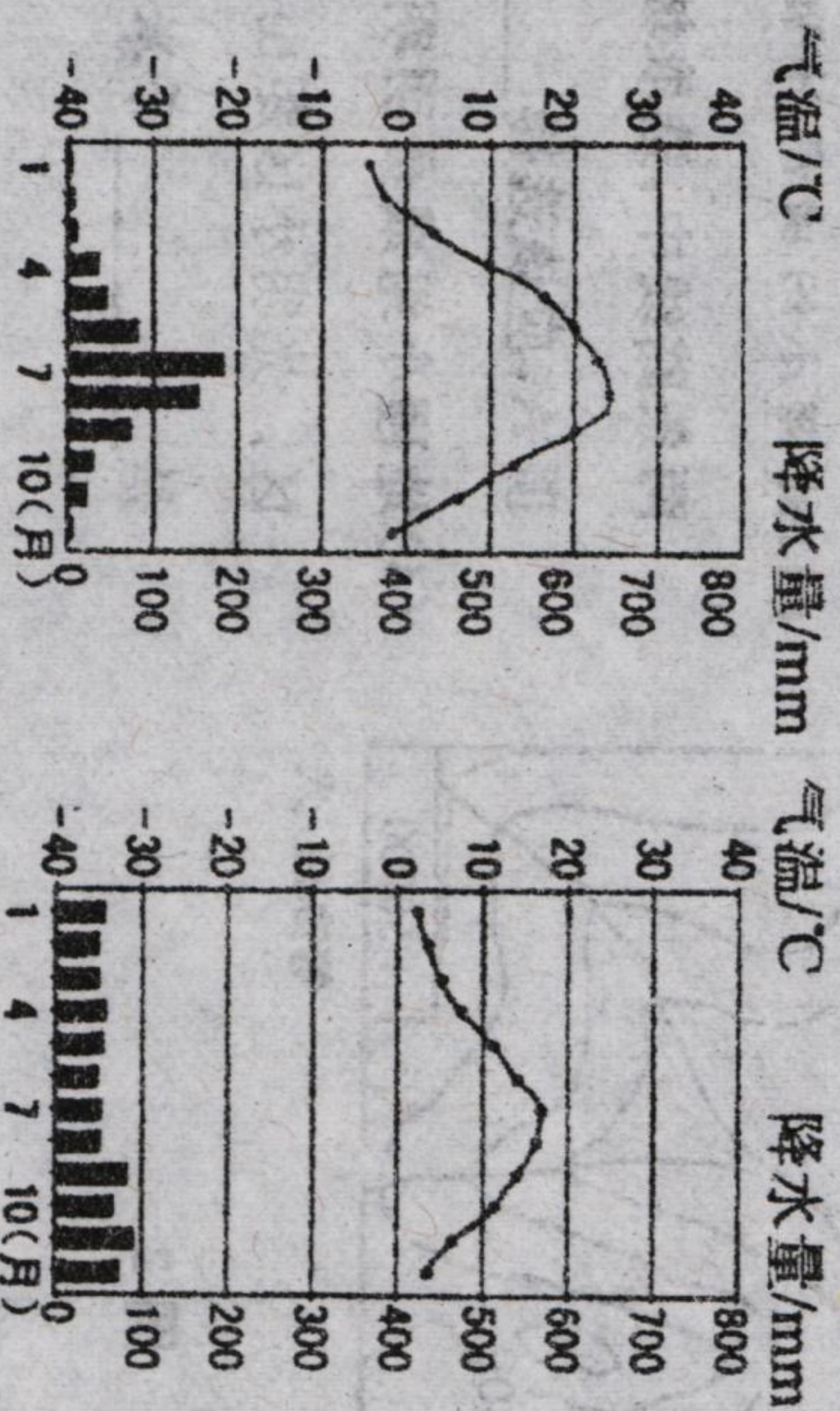


图9

图10

(3) 为了让自己的宣传工作更加直观、生动, 导游小刘列出了大连与伦敦两城市部分情况对比表如下, 请你帮助他填写表中空白部分。

	城市性质	两个著名景点	著名大学
伦敦	政治、经济、文化和交通中心	伦敦塔桥、大笨钟	牛津、剑桥
大连			