

高一文科地理试卷

考试时间：90 分钟 试题满分：100 分

第 I 卷 客观题 (60 分)

一、单项选择题（共 30 小题，给出的四个选项中，只有一项最符合题意，每题 2 分，共 60 分。）

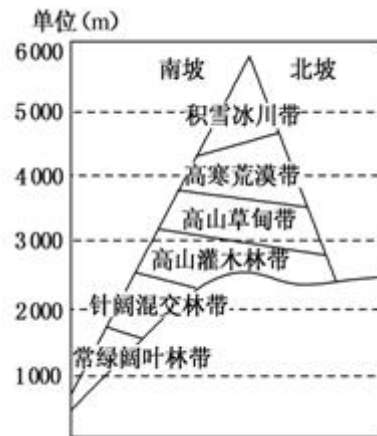
读下图，完成 1~2 题。

1. 该山南坡的自然带带谱复杂，而北坡较简单，原因主要是

- A. 南坡是向阳坡，温度高
- B. 北坡是向阳坡，温度高
- C. 南坡相对高度大，垂直温差大
- D. 南坡是迎风坡，降水充足

2. 该山雪线分布规律与其他自然带明显不同，原因可能是

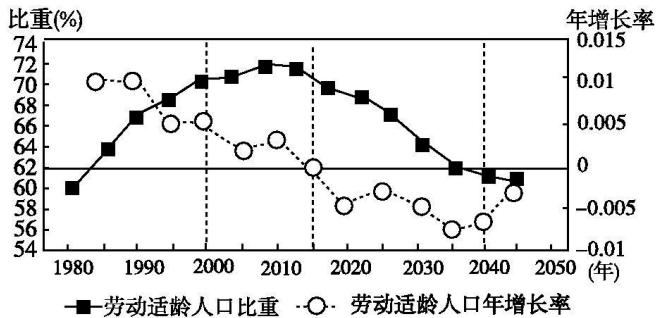
- A. 南坡是迎风坡，降水量大
- B. 南坡是向阳坡，温度高
- C. 北坡是向阳坡，温度高
- D. 北坡是迎风坡，降水量大



读“中国劳动适龄人口(15~64岁)比重图”，回答 3~4 题。

3. 根据图中信息判断

- A. 2015 年劳动适龄人口数达最大
- B. 1990~2035 年劳动适龄人口年增长率逐年下降
- C. 2035 年以后劳动适龄人口数量增加
- D. 2030 年和 1990 年劳动适龄人口比重相同, 劳动适龄人口数量相同



4. 针对目前我国劳动适龄人口比重较高的现状, 我国政府应

- ①吸引外来移民迁入
- ②有计划、有组织地对外劳务输出
- ③推迟退休年龄
- ④发展第三产业, 增加就业

- A. ①②
- B. ②③
- C. ②④
- D. ③④

2015 年末我国开始开放“二孩”政策。据此回答 5~6 题。

5. 启动此项政策的国情是我国

- A. 劳动力短缺
- B. 人口老龄化加剧
- C. 环境质量改善
- D. 人口出现负增长

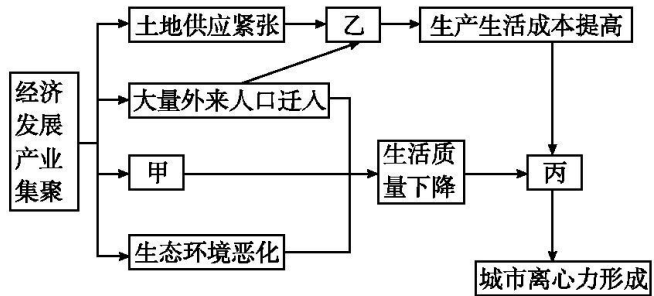
6. 到 2030 年, 此项政策将使我国

- A. 上学与就业压力减轻
- B. 养老金支付总额减少
- C. 劳动力供给状况改善
- D. 男多女少的情况加剧

读“世界某大城市发展示意图”，回答7~8题。

7. 图中甲、乙、丙所示内容排列正确的是

- A. 甲——地价上涨 乙——交通拥挤  
丙——各类产业迁出
- B. 甲——交通拥挤  
乙——地价上涨  
丙——各类产业迁出
- C. 甲——各类产业迁出  
乙——交通拥挤  
丙——地价上涨
- D. 甲——地价上涨  
乙——各类产业迁出 丙——交通拥挤



8. 图示现象可能导致

- A. 市中心人口将大幅增加, 地价上涨, 城市化问题突出
- B. 城市化水平将不断下降, 中心城区经济衰退
- C. 中心商务区逐渐向郊区迁移, 出现新的次级中心商务区
- D. 城市用地不断向外扩展, 出现新城和卫星城

下表为四聚落服务职能情况表。表中“√”表示聚落具有的服务职能。据此回答9~10题。

类型		甲聚落	乙聚落	丙聚落	丁聚落
零售	日用品	√	√	√	√
	中级消费品	√	√	√	
	高档消费品	√	√		
	特殊定做商品		√		
学校	小学	√	√	√	√
	中学	√	√	√	
	地方性大学	√	√		
	重点大学		√		

9. 表格中等级最高的聚落是

- A. 甲
- B. 乙
- C. 丙
- D. 丁

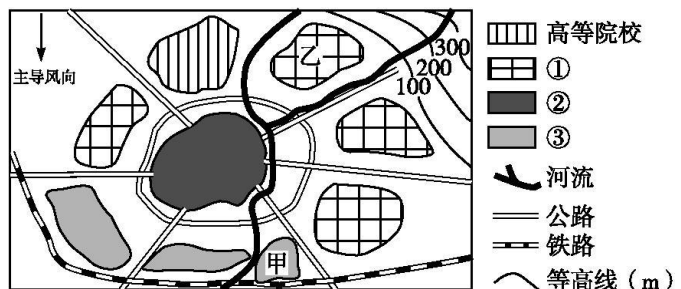
10. 有关等级最高的聚落的叙述, 正确的是

- ①城市数目较多 ②城市数目较少 ③城市相距较远 ④城市相距较近
- A. ①③
- B. ②④
- C. ①④
- D. ②③

读“某城镇略图”，回答11~12题。

11. 图中①②③所代表的城市功能区分别是

- A. 住宅区、工业区、商业区
- B. 工业区、住宅区、商业区
- C. 商业区、住宅区、工业区
- D. 住宅区、商业区、工业区

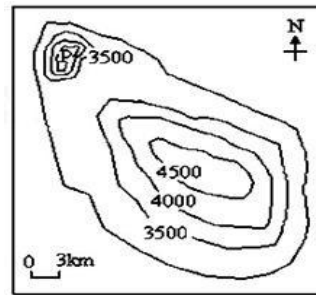


12. 从环境效益的角度考虑, 在甲处布局印染厂主要是因为其

- A. 距离城市较远
- B. 位于河流下游
- C. 地处盛行风下风向
- D. 靠近铁路

近几年，不断上涨的房价一直是人们关注的热点。读“我国某城市住宅小区平均房价等值线分布示意图”，（单位：元/平方米）完成 13~15 题。

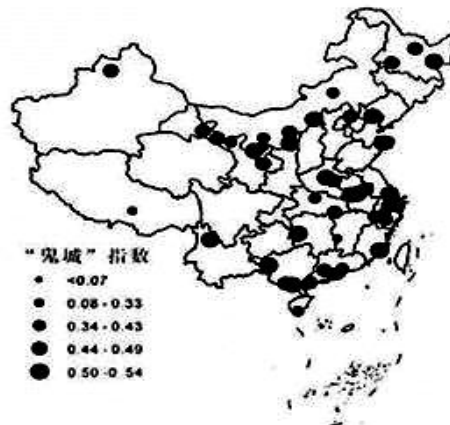
13. 下列关于城市住宅区的叙述，正确的是
- A. 住宅区是城市中最广泛的土地利用方式
  - B. 高级住宅区一般分布在地价较高的市中心附近
  - C. 文化程度是住宅区分化的最常见因素
  - D. 住宅区趋向于沿主要交通干线分布



14. 图中 P 处房价明显偏高，其原因不可能是
- A. 邻近风景区，环境优美
  - B. 附近公路干线交会，交通便捷
  - C. 接近高等院校，文化氛围浓郁
  - D. 地势平坦，工厂林立
15. 城市郊区的主要功能有
- A. 商业中心
  - B. 交通枢纽
  - C. 农副产品基地
  - D. 旅游区

鬼城是指因资源枯竭而被废弃的城市，属于地理学名词。在我国，随着城市化的推进，出现了城区人口与建成区面积比值（鬼城指数）低于 0.5 的新城、新区，这些新城、新区居住人口少，也被形象地称为“鬼城”。据此完成 16~17 题。

16. 关于原来鬼城（地理学名词）形成的原因，不正确的是
- A. 产业结构过于单一
  - B. 严重依赖资源开发
  - C. 城市环境污染加剧
  - D. 片面追求经济发展

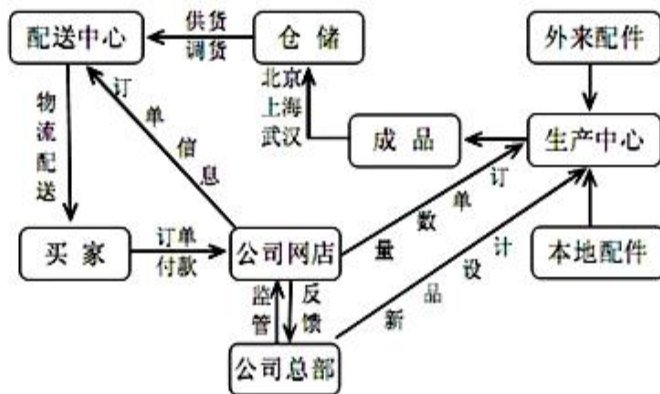


中国大陆“鬼城”前 50 名分布图

17. 鬼城指数越低，反映了
- A. 逆城市化现象更加明显
  - B. 虚假城市化越明显
  - C. 城市土地扩张相对过快
  - D. 城市人口规模越大

18. 目前，网络购物已经成为不少人的购物选择，右图为某公司的电子产品生产、网上销售流程简图。该电子产品三大仓储基地选址的主要原因是

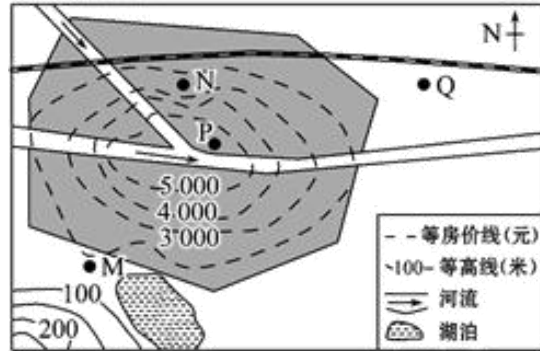
- A. 靠近名牌大学，便于储备研发人才
- B. 地处大中城市，便于提供充足用地
- C. 接近消费市场，便于成品就近配送
- D. 交通运输便利，便于产品供应市场



房价问题一直是人们关注的热点问题，影响房价的因素很多。下图为中国南方某城市等房价线图。读图后完成 19~20 题。

19. 对比图中 M、N、P、Q 四处房价及原因的推断最合理的是

- A. M 处房价最高，环境优美
- B. N 处房价最低，距市中心远
- C. P 处房价最高，靠近河流
- D. Q 处房价最低，靠近铁路



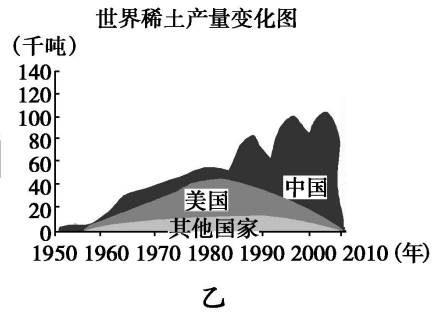
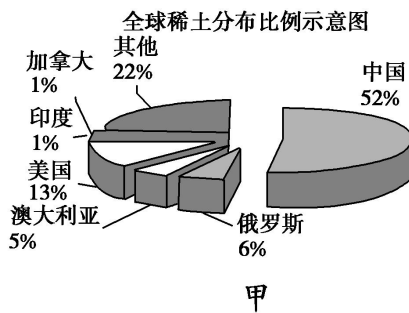
20. 关于城市住宅区叙述正确的是

- A. 住宅区所占城市面积仅次于工业区
- B. 收入差异为住宅区分化的主要原因之一
- C. 住宅区趋向于沿主要交通干线分布
- D. 高级住宅区一般分布在地价较高的市中心附近

稀土主要是由 17 种稀有金属元素组成的固体氧化性矿物，它是计算机、导弹制导等高精尖产业必不可少的原料。读甲、乙两幅图，回答 21~23 题。

21. 稀土提炼厂的工业类型属于

- A. 市场导向型
- B. 原料导向型
- C. 劳动力导向型
- D. 动力导向型



22. 下列说法，正确的是

- A. 建国初期，我国就实现了规模化开采
- B. 到 2006 年，美国、俄罗斯已无稀土可采
- C. 进入 21 世纪，除中国以外的国家，产量迅速下降
- D. 2000 年以后，国际市场对稀土的需求量迅速上升

23. 澳大利亚某公司欲在马来西亚建一座大型稀土提炼厂，当地居民却强烈反对。主要原因是

- A. 冲击当地产业
- B. 加大环境污染
- C. 占用耕地多
- D. 运输成本高

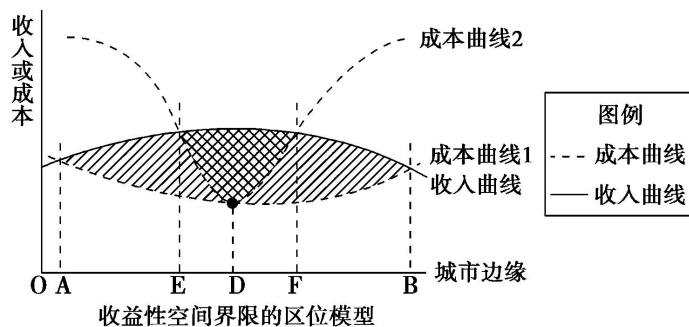
企业总是布局在有利润空间的地方，这一原理通过空间成本曲线或空间收入曲线来反映。下图是某类企业收益性空间界限的区位模型(0 代表市中心)，当图中成本曲线由 1 变为 2 后，完成 24~25 题。

24. 仍停留在 AE 区域的企业

- A. 因离市场近，开始盈利
- B. 因政策扶持，开始盈利
- C. 因地租上涨，出现亏损
- D. 因交通不便，出现亏损

25. 该类企业的最佳区位是

- A. A 点
- B. E 点
- C. D 点
- D. F 点

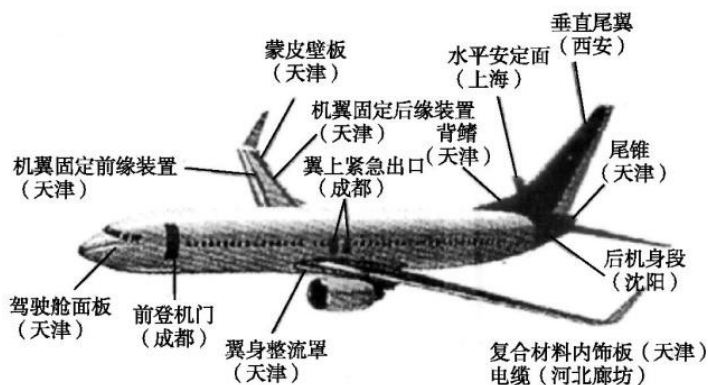


图示是美国新一代波音 737 飞机在中国的零部件生产地说明图。读图, 回答 26~27 题。

26. 图中反映出国际飞机制造业的

- ①集聚现象
- ②分散现象
- ③产业升级现象
- ④产业转移现象

- A. ①②
- B. ③④
- C. ①③
- D. ②④



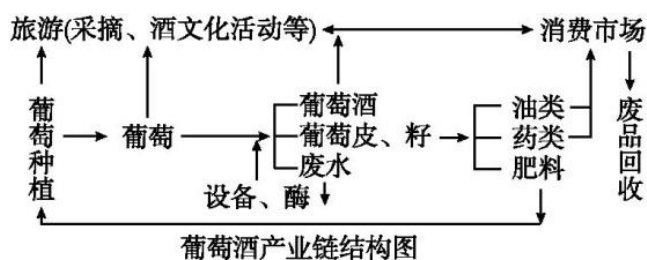
27. 此类合作, 对我国区域发展的影响有

- ①增大就业压力
- ②加快工业化进程
- ③促进技术创新
- ④改变能源政策

- A. ①②
- B. ②③
- C. ①④
- D. ③④

28. 葡萄酒用新鲜葡萄或葡萄汁酿造而成。近年来, 我国葡萄酒产量及消费量快速增长。读图文材料分析, 影响葡萄酒产业布局最主要的一组区位因素是

- A. 原料、劳动力
- B. 原料、市场
- C. 技术、市场
- D. 交通、能源



国务院批准安徽省成立“皖江城

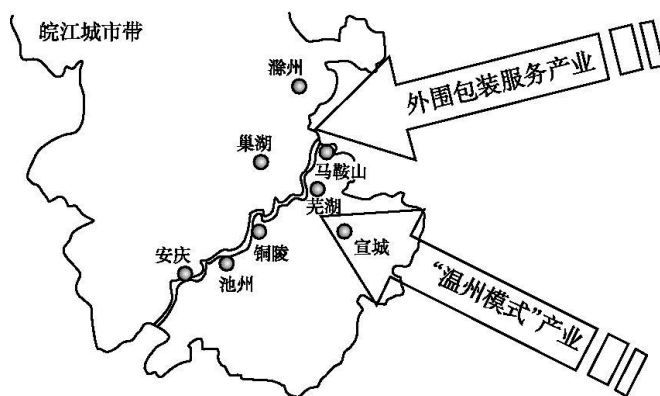
市带承接产业转移示范区”, 外围包装服务产业和 20 世纪 80 年代兴起的“温州模式”产业是示范区承载的主要产业。读图, 回答 29~30 题。

29. 影响外围包装服务产业转移到示范区的主要因素为

- A. 市场、工业基础
- B. 技术、信息网络
- C. 交通、劳动力
- D. 自然资源、环境

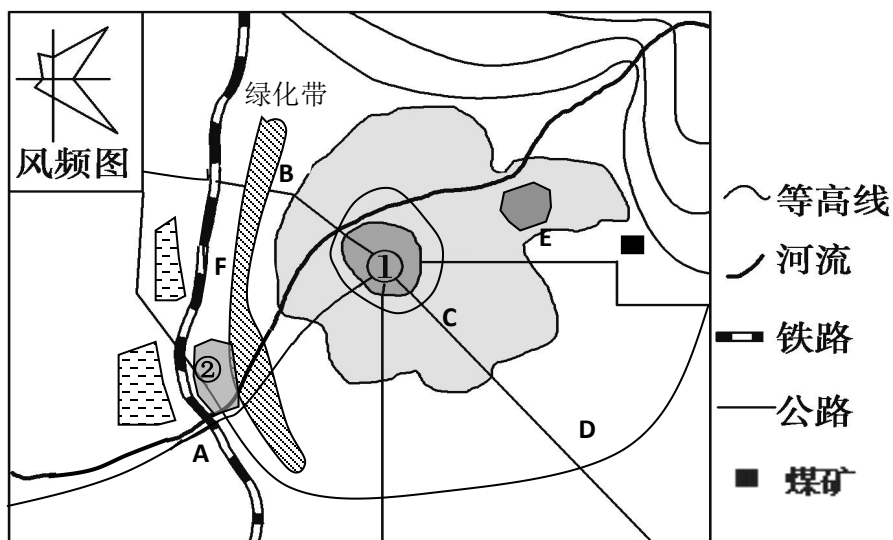
30. 示范区承接外围包装服务产业可以

- A. 降低企业生产成本
- B. 集中资金, 加速工业化
- C. 增加就业, 促进城市化
- D. 促进工业集聚, 提高竞争力



## 第II卷 非客观题 (40分)

31. 下图是某城市土地利用简图，读图回答下列问题。(20分)

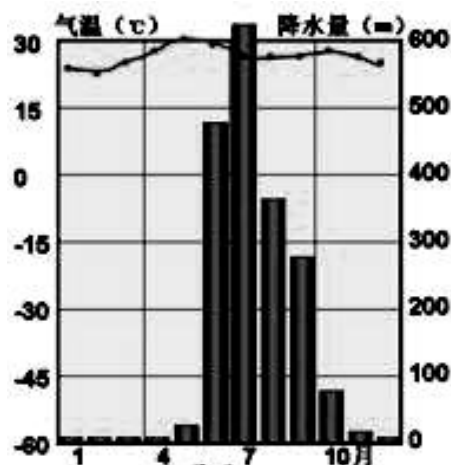
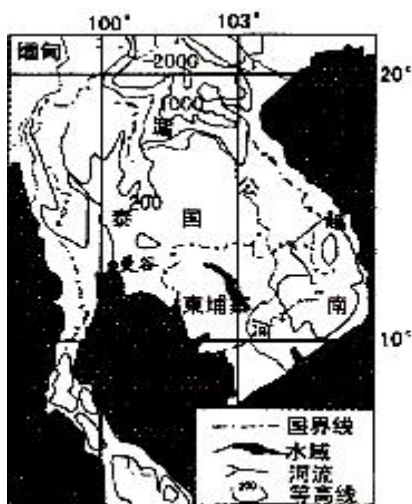


(1) 请判断上图中①②哪个是批发商业区，哪个是零售商业区，并分析其主要考虑的区位因素分别是什么？(8分)

(2) 该城市拟建一大型仓储物流中心，A、B、C、D四处比较合理的是哪一个？请阐述原因(8分)。

(3) 该城市早期火电厂建在E处，后来搬迁到F处。请问搬迁原因是什么？(4分)。

32. 下图为“东南亚部分地区图”和“泰国首都曼谷气温曲线与降水量柱状图”，读图完成下列各题。(20分)



(1) 据图判断泰国的气候类型并描述其气候特征。(6分)

(2) 该区域最主要的农业地域类型为哪一种？此区域发展该种农业地域类型的优势社会经济条件有哪些(8分)

(3) 该区域的地势特征为\_\_\_\_\_。湄公河为东南亚地区最大的河流，其下游地区受洪涝灾害影响很大，试分析主要的自然原因。(6分)