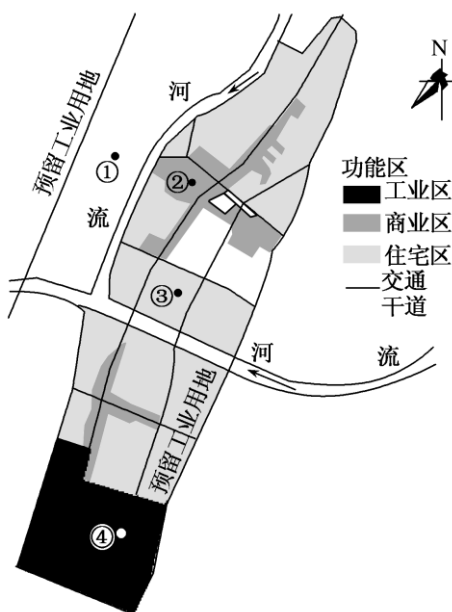


考点八 城市功能区与城市规划

(2017·湖南衡阳船山英文学校月考)读某城市主要功能区分布示意图,完成1~2题。



1. 该城市功能区布局的明显不合理之处是()

- A. 住宅区占地面积太大
- B. 预留工业用地在城市郊外
- C. 城市建设呈现多核心模式
- D. 部分工业区位于盛行风上风向

[解析] 本题考查城市功能分区。住宅区是城市中最为广泛的土地利用方式,面积理应最大,A不符合题意;工业用地的预留地应该布局在城市郊外,郊外的地租低,对市区影响小,B不符合题意;该城市有多条河流穿过,受河流的限制,布局成多核心模式是合理的,C不符合题意;根据风频图可知该地区常年盛行西南风,而该城市工业区布局在城市的西南方向上,工业区布局在盛行风的上风向,明显不合理,结合选项,故选D。

[答案] D

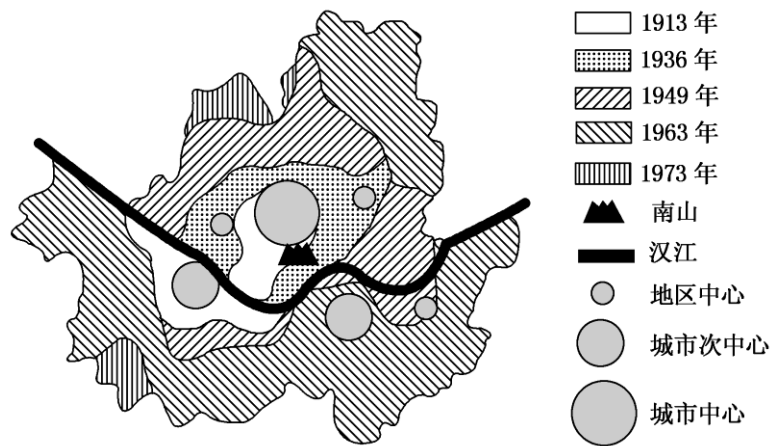
2. 该城市有一所百年中学,其位置最可能是()

- A. ①
- B. ②
- C. ③
- D. ④

[解析] 本题考查城市功能分区。根据题干信息,可知该学校的历史悠久,应该布局在城市中心,接近河流交汇处(城市兴起),故③地最有可能;①地位于城市的郊区,②地在商业区,④地在工业区,均不符合题意,结合选项,故选C。

[答案] C

(2017·河北衡水中学五调)下图是首尔市结构与市域面积增长图。读图完成3题。

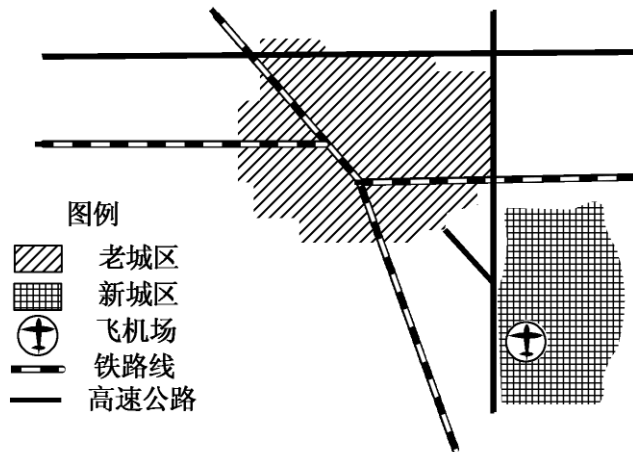


3. 下列对首尔的判断，正确的是()
- A. 1913 年开始形成多核心模式
 - B. 城市区域扩张在空间上不均衡
 - C. 市域面积增长最多的时期是 1913~1936 年
 - D. 首尔城市次中心的形成原因是逆城市化的来临

【解析】 本题考查了城市形态的变化等知识点。20 世纪 60 年代以前，首尔主要发展的是汉江以北的地区，汉江南岸发展缓慢，所以在空间上发展不均衡，故答案选 B 项。

【答案】 B

(2017·安徽淮北一中四模)下图为“我国某城市新、老城区分布图”，新城区的支柱产业是电子信息产业，读图完成 4~5 题。



4. 新城区位选择的主要原因是临近()
- A. 公路
 - B. 铁路
 - C. 航空港
 - D. 河流

【解析】 由题干材料可知，新城区的支柱产业是电子信息产业；电子信息产业属于技术指向型工业，其产品一般“轻薄短小”、价格贵，所以产品和零部件的运输成本相对较低，靠近航空港便于把产品运往世界各地，故选项 C 正确。

[答案] C

5. 新城建设对老城的积极影响是()

①缓解交通拥堵 ②优化空间结构 ③引发人口集聚 ④解决环境问题

A. ①②

B. ②③

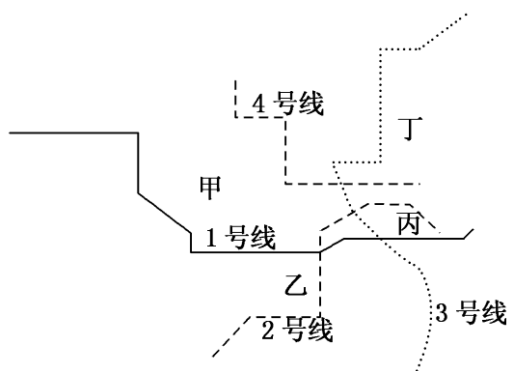
C. ①④

D. ③④

[解析] 图中显示新城与老城接近,可以分散老城一部分人口、工业,故排除③;新城可以缓解老城交通拥堵,优化空间结构,有利于缓解环境问题,而不是解决环境问题,故选项A正确。

[答案] A

(2017·重庆第八中学周考)下图为某城市地铁运营线路图。据此完成6~7题。



6. 该市中心商务区(CBD)最可能位于()

A. 甲

B. 乙

C. 丙

D. 丁

[解析] 中心商务区流动人口多,交通最发达。丙处地铁线路最集中,说明人流量最大,最可能为城市CBD。

[答案] C

7. 该市拟在部分地铁站附近修建新型立体停车场,其目的是()

①倡导公交出行 ②节约建设用地 ③加强地上地下交通衔接 ④促进城市空气质量改善

A. ①②

B. ②③

C. ③④

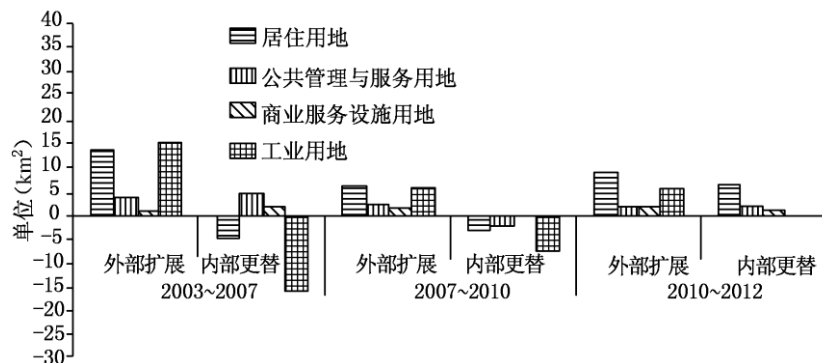
D. ①④

[解析] 立体停车场通过利用立体空间而节省建设用地;地铁站附近建设停车场方便地下交通与地面交通的换乘,加强了交通衔接。B正确。

[答案] B

(2017·河北唐山期末)城市发展过程中,城市功能用地在变化,外部扩展可增加面积,而内部更替则有三种表现:一是内部更替引起的某类城市功能用地的增加,表示有其他类型

的用地转变为这类用地；二是引起的某类城市功能用地减少，表示这一类的用地转变为其他类型的用地；三是引起的某类城市功能用地的不变，表示某类城市功能用地的用地类型不存在变更。下图为 2003~2012 年我国某大城市功能用地的外部扩展与内部更替示意图。结合材料并读图完成 8~10 题。



8. 图中显示，2003~2007 年该城市外部扩展与内部更替用地类型的面积()

- A. 居住用地>工业用地
- B. 公共管理与服务用地>居住用地
- C. 工业用地变动最小
- D. 商业服务设施用地大体相当

【解析】 城市发展过程中，城市功能用地在变化，图中显示，2003~2007 年该城市外部扩展与内部更替用地类型的面积居住用地小于工业用地，公共管理与服务用地小于居住用地，商业服务设施用地大体相当，所以 D 正确。

【答案】 D

9. 2003~2012 年该城市工业用地发生了明显变化，其主要原因是城市中心区()

- ①环境污染较重 ②土地价格较高 ③远离消费市场 ④基础设施落后
- A. ①②
- B. ②③
- C. ①③
- D. ②④

【解析】 城市发展过程中，城市功能用地在变化，外部扩展可增加面积，2003~2012 年该城市工业用地发生了明显变化，其主要原因是城市中心区环境污染较重、土地价格较高，所以 A 正确。

【答案】 A

10. 十年间，该城市四类功能用地变动表明，该城市()

- A. 功能用地以向城市中心集聚为主
- B. 发展规模以向外扩展为主
- C. 空间形态变化不大
- D. 功能用地以均衡分布为主

【解析】 城市发展过程中，城市功能用地在变化，外部扩展可增加面积，十年间，该城

市四类功能用地变动表明，该城市功能用地以向城市外围集聚为主，发展规模以向外扩展为主，空间形态变化大，所以 B 正确。

[答案] B