

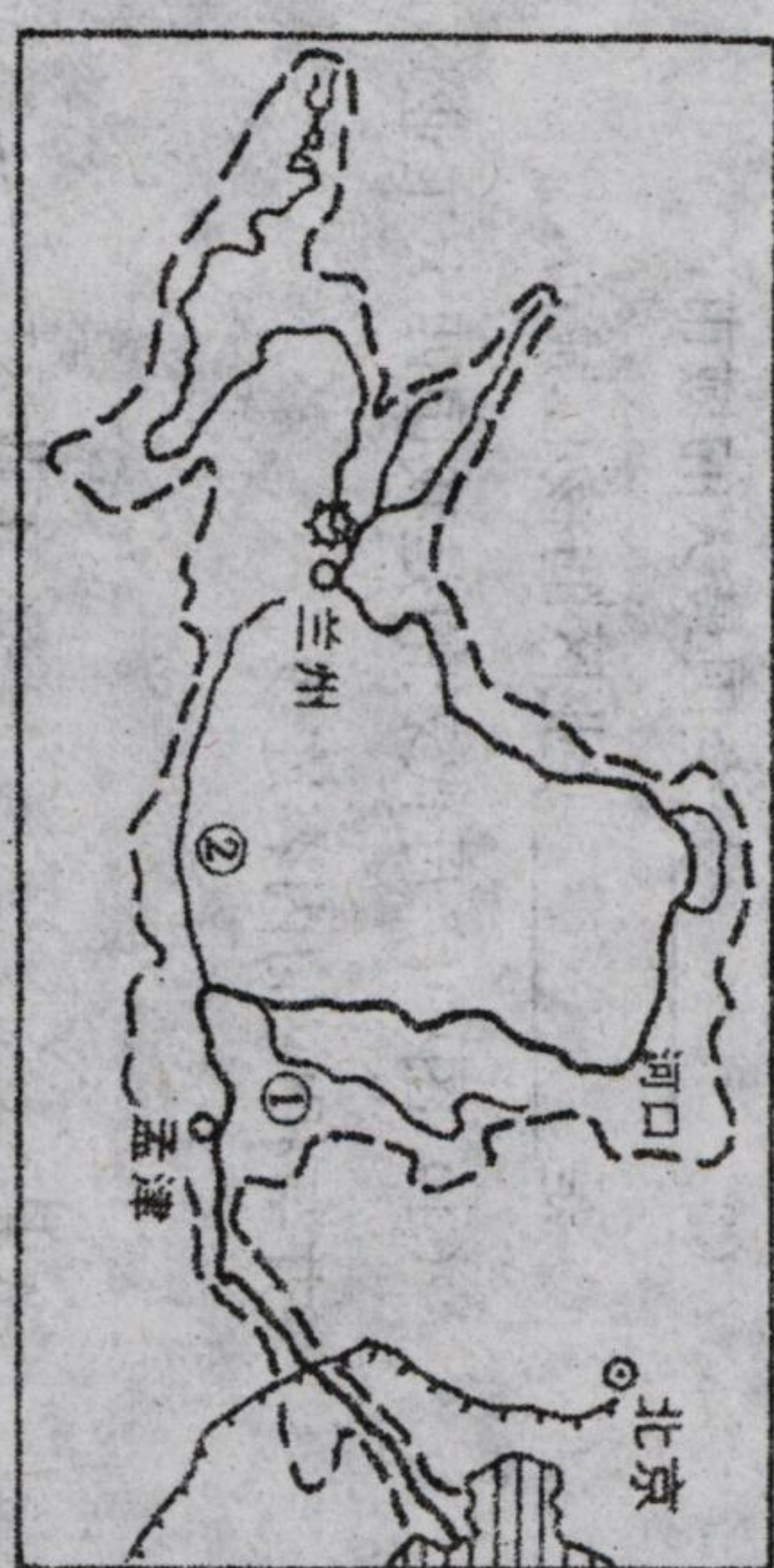
湖：我国最大的湖泊是\_\_\_\_\_，它在\_\_\_\_\_区；最大的淡水湖是\_\_\_\_\_，它在\_\_\_\_\_区。

11、读黄河水系略图，回答问题

(1) 黄河发源于\_\_\_\_\_高原的\_\_\_\_\_山脉，注入\_\_\_\_\_海。其干流呈巨大的“\_\_\_\_\_”字形。

(2) 黄河上、中、下游划分的界点是\_\_\_\_\_和\_\_\_\_\_。

(3) ①和②分别是黄河的重要支流\_\_\_\_\_河和\_\_\_\_\_河。



(4) 黄河是我国第\_\_\_\_\_长河，是世界上含\_\_\_\_\_量最多的河流。

A、黄河泥沙主要来自\_\_\_\_\_。

B、造成黄河含沙量大的主要原因有哪些？

C、治理黄河含沙量大的根本措施是\_\_\_\_\_。

(5) 黄河被称为“中国的忧患”，举例说明\_\_\_\_\_。(写两点)

(6) 黄河在孟津以下河段被称为“\_\_\_\_\_”，形成原因\_\_\_\_\_。

12、读“长江流域图”图回答：

(1) 长江发源于 A：\_\_\_\_\_山脉，注入 B：\_\_\_\_\_海。

(2) 长江上游蕴含着丰富的水能资源，因此有“\_\_\_\_\_”之称，长江的内河通航里程占全国的 2/3，货运量占 60%，因此有“\_\_\_\_\_”之称。



(3) 长江上中下游的分界城市为 a：\_\_\_\_\_和 b：\_\_\_\_\_。

(4) 长江主要支流：1 \_\_\_\_\_，2 \_\_\_\_\_，3 \_\_\_\_\_，4 \_\_\_\_\_，5 \_\_\_\_\_。

(5) 写出下列城市名称：c \_\_\_\_\_，d \_\_\_\_\_，e \_\_\_\_\_。

(6) 长江洪灾频发原因有：

①水系庞大，支流众多 \_\_\_\_\_，②流域内降水集中，多暴雨 \_\_\_\_\_。

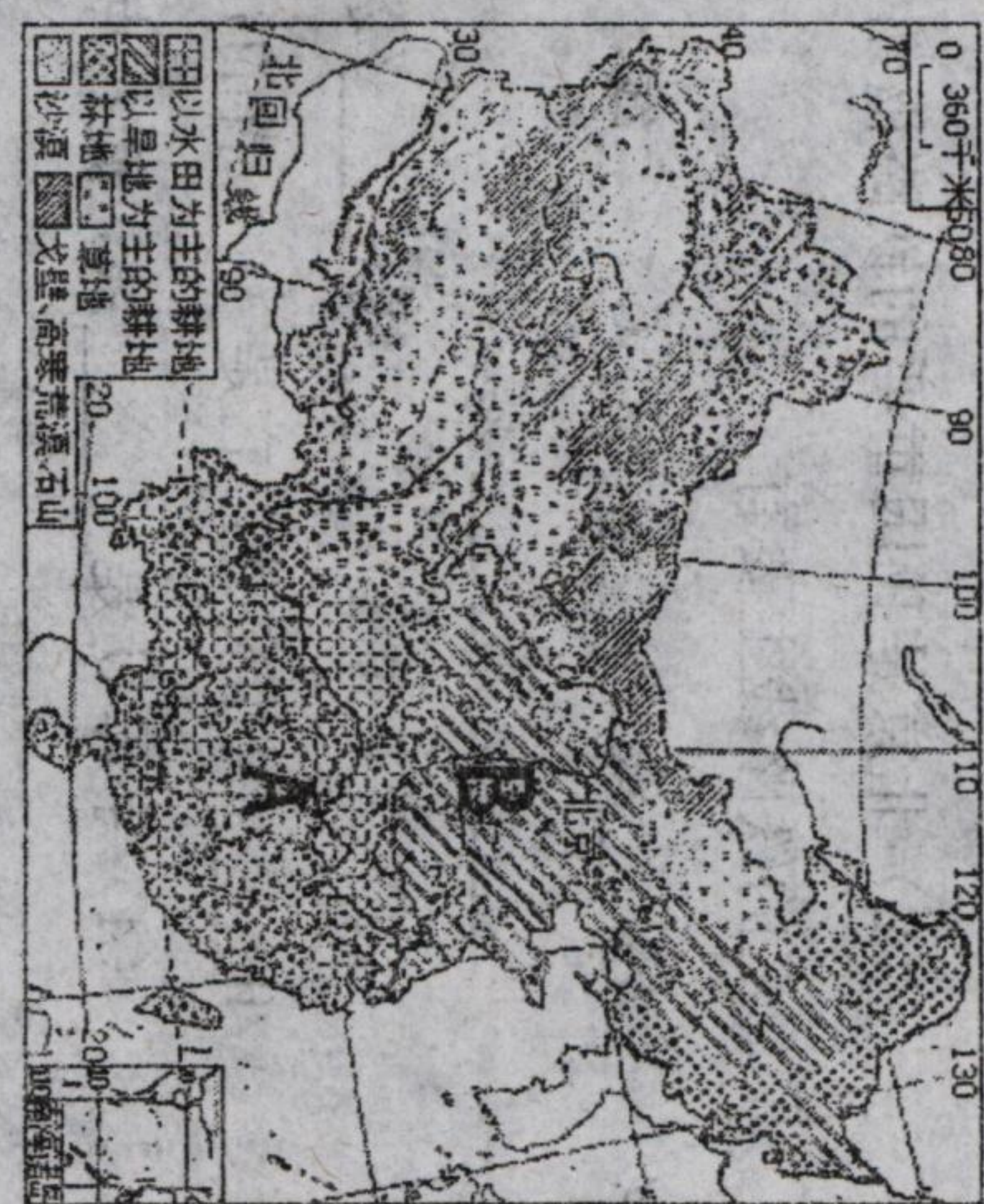
③部分河道弯曲严重 \_\_\_\_\_，④围湖造田使天然湖泊面积减少 \_\_\_\_\_。

对策 ①修建水库，②裁弯取直，③退耕还湖。(至少写出 2 点)

13、读“我国土地资源分布示意图”回答：

(1) 自然资源分为\_\_\_\_\_资源和\_\_\_\_\_资源，土地资源属\_\_\_\_\_资源。

(2) 根据土地的用途及利用状况，把土地资源分为\_\_\_\_\_、\_\_\_\_\_和\_\_\_\_\_，而 AB 为土地利用类型中的\_\_\_\_\_分布区，主要分布在气候湿润的\_\_\_\_\_区，从地形看主要分布在东部的\_\_\_\_\_及低缓的\_\_\_\_\_地区；其中 A 以\_\_\_\_\_为主，分布在干湿地区中的湿润地区，B 以\_\_\_\_\_为主，分布在干湿地区中的\_\_\_\_\_地区。A 与 B 大致以\_\_\_\_\_—\_\_\_\_\_为界。



(3) 草地主要分布在年降水量不足 400 毫米的\_\_\_\_\_区和\_\_\_\_\_区，\_\_\_\_\_业在当地农业生产中居主要地位。

(4) 林地主要分布在我国的\_\_\_\_\_、\_\_\_\_\_地区和\_\_\_\_\_地区。主要分布在\_\_\_\_\_（地形）。

(5) 我国土地资源总量\_\_\_\_\_，人均\_\_\_\_\_，而且比例不尽合理，主要是\_\_\_\_\_少，\_\_\_\_\_多，\_\_\_\_\_不足，特别人与耕地的矛盾尤为突出。

(6) 我国土地利用中存在的问题：\_\_\_\_\_、\_\_\_\_\_、\_\_\_\_\_。

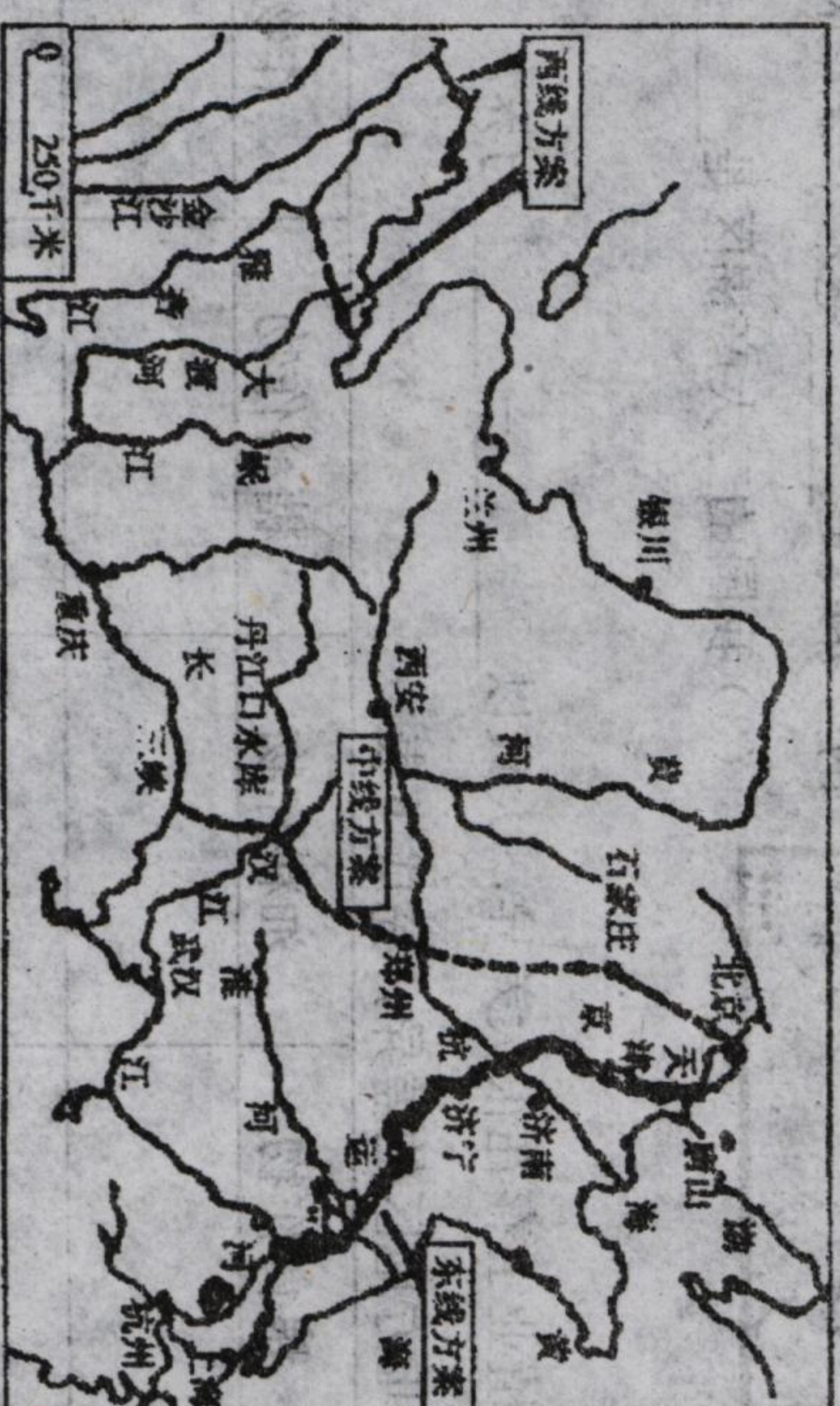
14、读下图回答：

(1) 受\_\_\_\_\_影响，我国水资源时空分布\_\_\_\_\_。

从时间分配看，\_\_\_\_\_多，\_\_\_\_\_少；解决措施是\_\_\_\_\_。

从空间分布看，\_\_\_\_\_多，\_\_\_\_\_少；解决措施是\_\_\_\_\_。

(2) 该图反映的是我国正在实施的\_\_\_\_\_工程。



该工程是把\_\_\_\_\_水系丰富的水资源，调到我国缺水严重的\_\_\_\_\_、\_\_\_\_\_地区。

分为\_\_\_\_\_线、\_\_\_\_\_线、\_\_\_\_\_线三条调水方案，其中东线利用了\_\_\_\_\_河为输水主要河道。

(3) 我国水资源利用从总体上看，一方面水资源供应相当紧张，另一方面水资源利用率

低，浪费相当惊人，进一步加剧了我国的缺水程度。所以，从某种意义上讲，\_\_\_\_\_比调水更重要。